

ශ්‍රී ලංකා විභාග දෙපාර්තමේන්තුව
 இலங்கைப் பரீட்சைத் திணைக்களம்

අ.පො.ස. (උ.පෙළ) විභාගය/ ක.පො.த. (உயர் தர)ப் பரீட்சை - 2018

විභාග අංකය
 பாட இலக்கம்

20

විභාග
 பாடம்

තොරතුරු හා සන්නිවේදන තාක්ෂණය

ලකුණු දීමේ පටිපාටිය/புள்ளி வழங்கும் திட்டம்
 I පත්‍රය/பத்திரம் I

ප්‍රශ්න අංකය විච්ඡිත இல.	පිළිතුරු අංකය விடை இல.	ප්‍රශ්න අංකය විච්ඡිත இல.	පිළිතුරු අංකය விடை இல.	ප්‍රශ්න අංකය විච්ඡිත இல.	පිළිතුරු අංකය விடை இல.	ප්‍රශ්න අංකය විච්ඡිත இல.	පිළිතුරු අංකය விடை இல.	ප්‍රශ්න අංකය විච්ඡිත இல.	පිළිතුරු අංකය விடை இல.
01.	5	11.	5	21.	5	31.	5	41.	4
02.	3	12.	4	22.	4	32.	5	42.	2
03.	1	13.	4	23.	5	33.	2	43.	2
04.	5	14.	1	24.	4	34.	2	44.	2
05.	4	15.	2	25.	5	35.	4	45.	3
06.	3	16.	1	26.	3	36.	5	46.	4
07.	5	17.	3	27.	3	37.	4	47.	3
08.	2	18.	4	28.	1	38.	1	48.	4
09.	1	19.	4	29.	5	39.	3	49.	2
10.	3	20.	5	30.	2	40.	All	50.	3

විශේෂ උපදෙස්/ விசேட அறிவுறுத்தல் :

වික පිළිතුරකට/ ஒரு சரியான விடைக்கு 01 ලකුණු වැටී/புள்ளி வீதம்

இடு ලකුණු/மொத்தப் புள்ளிகள் 1 x 50 = 50



අ.පො.ස. (උ.පෙළ) විභාගය - 2018
20 - තොරතුරු හා සන්නිවේදන තාක්ෂණය
Part A.

Basic thing is we should look for keywords (underlining)

Special Notes:

- i. .../.../... indicate only one of the options included are considered as one answer
 - ii. Underlined key words or synonyms are mandatory in a given answer
 - iii. [...] {} indicates marking guidelines
- If any amendments are made during 9th September 2018 meeting such changes need to be correctly written in the cages provided on pages 17-18 and verified with the panel/chief examiners by the individual examiner.

A කොටස

විශේෂ සටහන් :

- i.මගින් ,අතුළත් කර ඇති විකල්ප)පිළිතුරු (අතරින් එකක් පමණක් එක් පිළිතුරක් ලෙස සැලකිය හැකි බව දැක්වෙයි.
- ii. දෙන ලද පිළිතුරක ,යටින් ඉරක් ඇද ඇති මූල පද හෝ පර්යාය පද)සමානාථී පද (අනිවාර්ය වේ.
- iii. [...] {} මගින් ,පිළිතුරු හරි වැරදි බැලීමට උපදෙස් දැක්වෙයි.
- iv. 2018සැප්තැම්බර් 09 වැනි දින රැස්වීමේදී කිසියම් සංශෝධනයක් සිදුකරනු ලබන්නේ නම් එම වෙනස්කම් 29, 30 පිටුවල දී ඇති කොටු තුල නිවැරදිව ලිවිය යුතු අතර ,එක් එක් පරීක්ෂකවරයා විසින් එම සංශෝධන පරීක්ෂක මණ්ඩලය/ප්‍රධාන පරීක්ෂක මගින් තහවුරු කර ගත යුතුය.

සිංහල මාධ්‍ය ලකුණු දීමේ පටිපාටියෙහි කිසියම් හෝ කරුණක/උපදෙසක ව්‍යාකූලතාවයක් ඇති වුවහොත් ඉංග්‍රීසි මාධ්‍ය පිටපතෙහි ඊට අනුරූප කරුණු/උපදෙස් පමණක් අනුගමනය කරන්න.

1. (a) (i) ප්‍රගමන රටා පත්‍රිකා [Cascading Style Sheets (CSS)] භාවිත කිරීමේ ප්‍රයෝජන දෙකක් සඳහන් කරන්න.

- (1)
- (2)

- i. Easy maintenance and update web pages
- ii. Style sheets guarantee consistency throughout website
- iii. re-styling of any document, without modifying the original HTML
- iv. A single document can be presented in multiple styles by using multiple style sheets (Multiple Device Compatibility)
- v. More formatting options
- vi. Present different styles to different users/ Ease of presenting different styles to different viewers
- vii. Pages load faster /lightweight code/ The smaller the files the faster the download.
Using style sheets can help minimize file sizes / CSS reduces code duplication
- viii. Search engine optimization benefits
- ix. Cleaner code
- x.



- i. වෙබ් පිටු පහසුවෙන් නඩත්තු කිරීමේ හා යාවත්කාලීන කිරීමේ හැකියාව ඇත
- ii. මුළු වෙබ් අඩවිය පුරා සංගත බව සහතික කෙරේ
- iii. මුල් HTML ලේඛණයෙහි වෙනස්කම් නොකර ඕනෑම ලේඛණයක නාවනු රටා දැමිය හැකිය
- iv. බහුවිධ රටා පත්‍රිකා භාවිත කර එකම ලේඛණය බහුවිධ රටා වලින් ඉදිරිපත් කල හැකිය.
- v. හැඩසවි ගන්වීමේ විකල්ප වැඩි ප්‍රමාණයක් ඇත
- vi. වෙනස් පරිශීලකයන්ට එකිනෙකට වෙනස් රටා ඉදිරිපත් කෙරේ / වෙනස් තරඹන්නන්ට එකිනෙකට වෙනස් රටා ඉදිරිපත් කිරීමේ පහසුව
- vii. බාගතවීම වේගවත් වේ / ලැබුබැඳි කේත / ගොනුවක් කුඩා වූ විට බාගතවීම වේගවත් වේ. රටා පත්‍රිකා භාවිතයෙන් ගොනුවක ප්‍රමාණය අවම කර ගත හැකිය/ප්‍රගමන රටා පත්‍රිකා මගින් කේත අනුපිටපත් සෑදීම අඩු කර ගත හැකිය.
- viii. සෞඛ්‍යමය යන්ත්‍ර වඩා ඵලදායී කිරීමෙන් වන ප්‍රයෝජන
- ix. වඩා නිරවුල් කේත

[1 mark * 2 = 2 marks
Total = 2 marks]

(ii) පහත දැක්වෙන HTML කේත බැරවිය වෙබ් අතරින් ඉවත් මගින් විද්‍යා දක්වන විට ලැබෙන ප්‍රතිදානය ලියා දක්වන්න.

```
<html>
<body>
<u> Important Sites </u>
<ul>
<li> <a href="www.nie.lk/index.html"> National Institute of Education </a> </li>
<li> <a href="www.doenets.lk/exam/index.html"> Department of Examinations </a> </li>
</ul>
</body>
</html>
```

Important Sites } 0.5

- National Institute of Education
- Department of Examination

} 0.5 } * there should be indentation correctly

[0.5 marks for heading with underline text (Important Sites)

0.5 marks for bullet list with hyperlink

Total = 1 mark]

* මෙහි මත පරිදි next line ඔබගේ වන්න

(iii) පහත දැක්වෙන HTML කේත ඛණ්ඩය වෙබ් අතරික්‍රමයක් මගින් විද්‍යා දක්වන විට ලැබෙන ප්‍රතිදානය ලියා දක්වන්න.

```
<html>
<body>
<p>
<center> Department of Examinations <br> Pelawatta
<br> Battaramulla </center></p><hr>
</body>
</html>
```

විද්‍යා දක්වන විට
center යනු වඩා වැදගත්
but iden is key

Department of Examination
Pelawatta
Battaramulla

} 0.5

should be in three line.
of center

← Sh x

0.5

[0.5 marks for three centered lines
0.5 For the hardline
Total = 1 mark]

{Total for 1. (a) = 4 marks}

(b) පහත දැක්වෙන HTML කේත ඛණ්ඩය සලකන්න:

```
<body>
<h1> Introduction to Web Technologies </h1>
<h3> HTML </h3>
<p> HTML is the standard markup language for creating web pages </p>
</body>
```

ඉහත කේත ඛණ්ඩයෙහි දැක්වූ h1 සහ p මූලාංග සඳහා, පහත වලඳවී සඳහන් රටා යෙදීමට අවශ්‍ය අන්තර්ගත රටා (internal styles) ලියා දක්වන්න.

මූලාංගයේ නම	ලාලකියාව	ලාලකියාවෙහි අගය
h1	color text-align font-family	blue centre Arial
p	background-color font-size	Yellow 12px

<style>

[0.5 for starting and closing

'style' tags]

h1 { color : blue;

text-align : center/centre;

[1 mark]

(Note:

'centre' also

acceptable due to typographical error in the table given)

font-family :Arial;

center / centre යනු වැදගත්




```
P { background-color : yellow;
font-size : 12px;
}
```

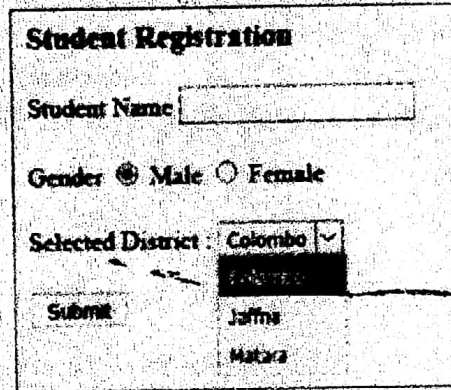
[0.5 mark]

```
</style>
```

{Total for part b = 2 marks}

(c) වෙබ් අන්තර්ජාලයේ මගින් විද්‍යා දැක්වීම පහත දැක්වෙන HTML පෙරලිපිය සලකන්න:

මෙහි දැක්වෙන්නේ සිසුන් ලියාපදිංචි කිරීම සඳහා භාවිත වන ලියාපදිංචි කිරීමේ ආකෘති පත්‍රයකි. සිසුවාගේ නම, පාඨ ආදානයක් ලෙස ඇතුළත් කර, ගැහැනු පිරිමි ඔහු හෝ ඇය, දිස්ත්‍රික්කය හෝ දිස්ත්‍රික්කය ඉන් පසුව Submit බොත්තම එහිම අවශ්‍ය වේ. ආකෘති පත්‍රය ප්‍රදර්ශනය කිරීම සඳහා පහත දැක්වෙන කේත බාහිරයෙහි ඇති හිස්තැන් පුරවන්න.



```
<html>
<head>
</head>
<body>
<h3>Student Registration </h3>
<form action="" method="post">
.....</form>
```

[0.5 mark for <form>

```
<div>
Student Name <input type="text" name="name">
```

mark]

Handwritten note: value එහි, ↑ " " or ' ' both accepted

```
</div>
<br>
<div>
Gender
<input type="radio" name="ptype" value="male" checked> Male
```

[0.5 mark]

```
<input type="radio" name="ptype" value="female" > Female
```

[0.5 mark]

```
</div>
<br>
<div>
Selected District :
<select name="city">
select tags]
<option value="Colombo"> Colombo </option>
```

[0.5 for both open and close

```
<option value="Jaffna" > Jaffna </option>
<option value="Matara"> Matara</option>
```

[0.5 for all three options in

```
correct order]
</select>
```

Capital letters
or
Simple letters
OK

```
</div>
<br>
<input type="submit" name="submit" value="Submit">
```

[1

```
mark]
</form>
</body>
</html>
```

(Note: both ' and " are acceptable in answer)

{Total for 1.(c) = 4 mark}

[TOTAL MARKS FOR Q1 10 MARKS]

2. (a) පහත දැක්වෙන (i) - (viii) කෙසේ, e-වාණිජයට සම්බන්ධ එක් එක් ප්‍රකාරය ඛණ්ඩය සමඟ දී ඇති පද ලැයිස්තුවෙහි වඩාත් ම සුදුසු පදය ගලපත්ත.

ලැයිස්තුව: {ප්‍රින් සහ ක්ලික් (brick-and-click), අන්තර්ගතය ලබා දෙන්නා (content provider), e-වාණිජය (e-commerce), කාණ්ඩ ලෙස මිලදී ගැනීම (group purchasing), තොරතුරු නැඟවුණු (information broker), මාර්ගගත වෙළෙඳපොළ (online marketplace), පියෝ ප්‍රින් (pure-brick), පියෝ ක්ලික් (pure-click), ප්‍රති වෙන්දේසිය (reverse auction), අතරා ප්‍රජාව (virtual community), අතරා වෙළෙඳ ප්‍රදර්ශනාගාරය (virtual storefront)}

ප්‍රකාර ඛණ්ඩ:

- (i) වෙබ් අඩවිය හරහා කෙටිකාලීන පාර්ශ්වික ව්‍යාපාරවලට (වෙනත් ව්‍යාපාර) කාණ්ඩ සහ සේවා විකිණීමට අවස්ථාව ලබා දී අනුමැතිය ලබාදීමට ප්‍රතිගතයක් භාණ්ඩ ලෙස අයකර ගැනීම
- (ii) මාර්ගගතව ලබා ගත හැකි නිකර අයුත් කෙරෙහි ප්‍රධාන ප්‍රවෘත්ති, බ්ලොග් (blogs), විඩියෝ වැනි දෑ ඇසවීම
- (iii) පොදු රාජිකත්වය සහ අදහස් පුවරුවකට කර ගැනීමට අන්තර්ජාලය මගින් ඉඩ සැලසීම
- (iv) පාරිභෝගික ඇණවුම් භාරගෙන සැකසීම, ව්‍යාපාර මෙහෙයවන්නාගේ වෙබ් ද්වාරය (web portal) හරහා සිදු කෙරෙන අතර, මුදල් ගෙවීමෙන් පසු කාණ්ඩ භාර දීම සිල්ලර වෙළෙඳුන් හා තොරතුරු වෙළෙඳුන් මගින් සිදු කිරීම
- (v) මාර්ගගත සාප්පුවක් මෙන්ම භෞතික සාප්පුවක් ද පැවැත්වීම
- (vi) ඕනෑම භාෂණයකට ලබා ගත හැකි, අන්තර්ජාලයේ ඇති පාරිභෝගිකයන්ට අදාළ දත්ත එක්රැස් කොට විශ්ලේෂණය කර සාරාංශ ගත කිරීමෙන් පසු එම තොරතුරු අනෙකුත් පාර්ශ්වවලට අලෙවි කිරීමේ ව්‍යාපාරයකි
- (vii) ගැනුම්කරුවන්ට කාණ්ඩ හා සේවා අලෙවි කිරීම සඳහා විකුණුම්කරුවන් එකිනෙකා අන්තර්ජාලය හරහා සම්බන්ධ කර ගැනීම හා මවුන් එකිනෙකා අතර අඩු ලාභ නැතිව නිසා මිල ගණන් සාමාන්‍යයෙන් අඩු වීම
- (viii) සාමාජිකයන්ගේ සාමූහික මිලදී ගැනීමේ ක්‍රමය පදනම් කරගෙන අන්තර්ජාලයේ සිටින වෙළෙඳුන්ගෙන් වර්ගීකරණය ලබා ගැනීම

වටහා: ප්‍රකාර ඛණ්ඩයෙහි අංකය ඉදිරියෙන් ගැලපෙන පදය පමණක් ලියන්න.

- (i)
- (ii)
- (iii)
- (iv)
- (v)
- (vi)
- (vii)
- (viii)

- i. Virtual storefront
- ii. Content provider
- iii. Virtual community
- iv. Online marketplace
- v. Brick and click
- vi. Information broker
- vii. Reverse auction
- viii. Group purchasing

- i. අනල්ස් වෙළඳ ප්‍රදර්ශනාගාරය
- .ii අන්තර්ගතය ලබා දෙන්නා
- .iii අනල්ස් ප්‍රජාව
- .iv මාර්ගගත වෙළඳපොළ
- .v බ්‍රික් සහ ක්ලික්
- .vi තොරතුරු තැරැවිකරු
- .vii ප්‍රති වෙන්දේසිය
- .viii කාණ්ඩ ලෙස මිලදී ගැනීම

[Note: correct key words(exact) should be written from the given list]

- [any 1 correct = 1 mark
- Any 2 correct = 2 marks
- Any 3 correct = 3 marks
- Any 4 correct = 4 marks
- Any 5 correct = 4.5 mark
- Any 6 correct = 5 marks
- Any 7 correct = 5.5 marks
- All 8 correct = 6 marks

{Total for 2 (a) = 6 marks}



(b) (i) 12_{10} සංඛ්‍යාවෙහි දෙකෙහි අනුපූරකය (two's complement) සිටු 8ක් භාවිතයෙන් නිරූපණය වන ආකාරය ලියා දක්වන්න.

00001100

[1 mark]

(ii) -68_{10} සංඛ්‍යාවෙහි දෙකෙහි අනුපූරකය සිටු 8ක් භාවිතයෙන් නිරූපණය වන ආකාරය ලියා දක්වන්න.

0.5 { 68 -> 01000100
 Complement of (68) -> 10111011
0.5 { -68 -> 10111100 } ①

[final answer 1 mark,

if only first two steps are correct and answer incorrect 0.5 maximum mark 1]

[නිවැරදි පියවර පමණක් සහිතව හෝ පියවර රහිතව හෝ නිවැරදි අවසන් පිළිතුරට

ලකුණු 1

(පිළිතුර රහිතව) නිවැරදි පියවර දෙක පමණක් ද ඇති විට

ලකුණු 0.5

උපරිම ලකුණු 1]

(iii) ඉහත (i) හා (ii) හි නිරූපණය භාවිතයෙන් $-68_{10} + 12_{10}$ ගණනය කරන්න.

10111100
 + 00001100

 11001000

}
 correct
 1 mark

[1 mark,

No partial Marks]

(iv) පරිගණකයක අභ්‍යන්තර වේගය සඳහා දත්ත, දෙකෙහි අනුපූරකය ලෙස නිරූපණය කිරීමෙන් ලැබෙන එක් වාසියක් සඳහන් කරන්න.

- More efficient calculations
- Possible to represent negative number
- Subtractions are carried out as additions
- has only one value for zero

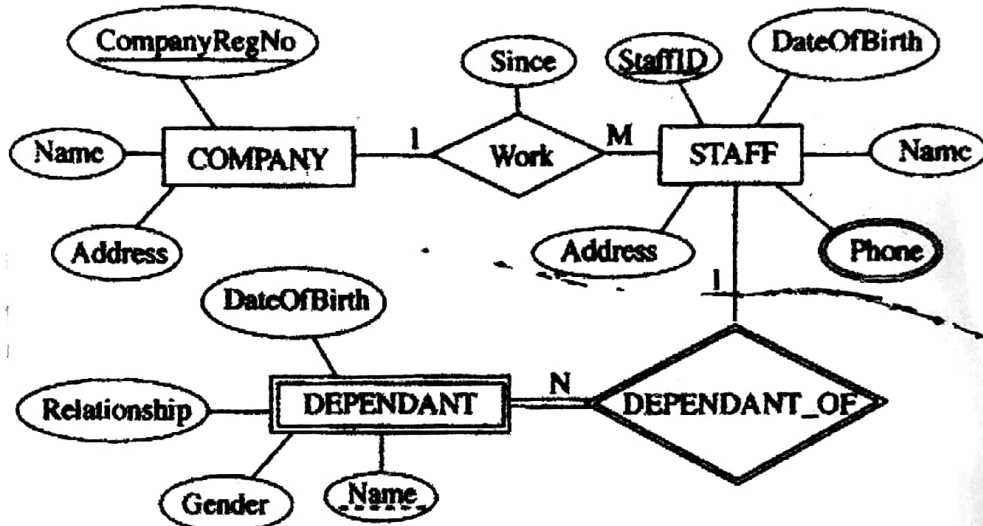
- වඩා කාර්යක්ෂම ගණනය කිරීම්
- සෘණ අගයයන් නිරූපනය කිරීමේ හැකියාව
- අඩුකිරීම්, එකතු කිරීම් ලෙස සිදු කිරීම
- ශුන්‍යය (0) සඳහා එක් අගයක් පමණක් තිබීම.

[1 mark]

{Total for 2 (b) = 4 mark}

[TOTAL MARKS FOR Q2 10 MARKS]

3. (a) පහත දක්වා ඇති භූකාර්ය සම්බන්ධතා (ER) සටහන සලකන්න.



(i) අනෙකුත් උපලක්ෂණ (attributes) සමග සැසඳීමේ දී 'Phone' උපලක්ෂණය, වෙනස් සංකේතයකින් දක්වා ඇත්තේ ඇයි දැයි පැවසෙන්න පැහැදිලි කරන්න.

"Phone" – is a multivalued attribute / attribute can have multiple values and other attributes have only single values

"Phone" යනු බහු අගයයන් ඇති උපලක්ෂණයකි / "Phone" උපලක්ෂණයට (බහුවිධ අගයයන් තිබිය හැකි අතර වෙනත් උපලක්ෂණ වලට තනි අගයක් පමණක් ඇත.

[1 mark]

(ii) COMPANY සමග සැසඳීමේ දී DEPENDANT භූකාර්ය (entity) වෙනස් සංකේතයකින් දක්වා ඇත්තේ ඇයි දැයි පැවසෙන්න පැහැදිලි කරන්න.

"DEPENDANT" is a weak entity / cannot be uniquely identified by its attributes alone or equivalent meaning

"DEPENDANT" යනු දුර්වල භූකාර්යයකි / එහි උපලක්ෂණ මගින් පමණක් අනන්‍ය ලෙස හඳුනා ගත නොහැකිය හෝ එවැනි සමාන අදහසක්

[1 mark]



(iii) ඉහත දැක්වෙන භූතාර්ථ සම්බන්ධතා සටහන භාවිත කර පහත සම්බන්ධතා වගු ශ්‍රෝතිකව ලැබේ. එක් එක් වගුවෙහි ක්ෂේත්‍ර නාම දක්වා නොමැත.

COMPANY (.....^P.....)

STAFF (.....^Q.....)

STAFF_PHONE (.....^R.....)

DEPENDANT (.....^S.....)

එක් එක් වගුවෙහි දක්වා නොමැති ක්ෂේත්‍ර නාම හඳුනාගෙන P සිට S දුර්වලයෙහි ලියා දක්වන්න.

- P
- Q
- R
- S

P -> CompanyRegNo, Name, Address

Q -> StaffID, CompanyRegNo, Name, Address, DateOfBirth, Since
or
underline 2 කොට නාම

*නොමැති නම 0.1C
but
bonus mark 2.2 නි නැත*

Q -> StaffID, CompanyRegNo, Name, Address, DateOfBirth

R -> StaffID, Phone

S -> StaffID, Name, Relationship, Gender, DateOfBirth

[If any additional fields mentioned or fields missing or incorrect field names written:
no marks awarded

Each correct 0.5 x 4 = 2 marks,

[Note: Overall completeness mark of 0.5 for part iii not awarded if 'Since' missing,
however 0.5 awarded for other five fields in Q]

for overall completeness (properly underlines key fields, 'Since' field included in Q,
attribute names correctly written in correct upper-lower case with spellings,
and All P-S correct) + 0.5

bonus mark

Total = 2.5 marks]

(iv) කාර්යමණ්ඩලයෙහි (STAFF) සියල්ලන්ගේම නම සහ ලිපින පුද්ගලිකව කිරීම සඳහා SQL ප්‍රකාශයක් ලියන්න.

ඉටු 50 instn බල

Select Name, Address from STAFF;

*semi colon
miss
නොමැති අකුරු
එන නිසා 0.5*

[1 mark,

~~no partial marks,~~

~~Incorrect field names no marks]~~

(ii) මෘදුකාංග ඒජන්තවරුන්ට සම්බන්ධ පහත දැක්වෙන එක් එක් ප්‍රකාශය සත්‍ය ද අසත්‍ය ද යන වග ලියා දැක්වන්න.

සත්‍යයි / අසත්‍යයි

(1) මෘදුකාංග ඒජන්තවරයකුට (software agent) නම් අරමුණු කරා යාමේ දී අවම අධීක්ෂණය පමණක් හෝ සෘජු අධීක්ෂණයකින් තොරව හෝ කාර්ය සිදු කළ හැක.

.....

(2) පරිශීලකයකුගේ සෘජු අධීක්ෂණයකින් තොරව මෘදුකාංග යෙදුම්වලට ඒජන්තවරයකු සමග අන්තර්ක්‍රියාවේ යෙදිය හැක.

.....

(3) පරිශීලකයකුට ඒජන්තවරුන්ගෙන් සෘජුවම යම් ගැටලුවකට පිළිතුරු ලබා ගත හැක.

.....

(4) බහු-ඒජන්ත පද්ධතියක් යනු එක් එක් භූතාර්ථයෙහි නති හැසියා අහිමිවූ යන ගැටළුවලට පිළිතුරු ලබා ගැනීම සඳහා එක්ව කටයුතු කරනු ලබන ඒජන්තවරු ලෙස හැඳින්වෙන ගැටළු විසඳීමේ භූතාර්ථ ජාලයකි.

.....

(5) බහු-ඒජන්ත පද්ධතියකදී, පද්ධතියෙහි අරමුණු ඉටු කර ගැනීම සඳහා තනි ඒජන්තවරු එකිනෙකා හරහා කිරීම හෝ සහයෝගීව කටයුතු කිරීම හෝ සිදු වේ.

.....

- 1. True
- 2. True
- 3. True
- 4. True
- 5. True

[0.5 x 5 marks

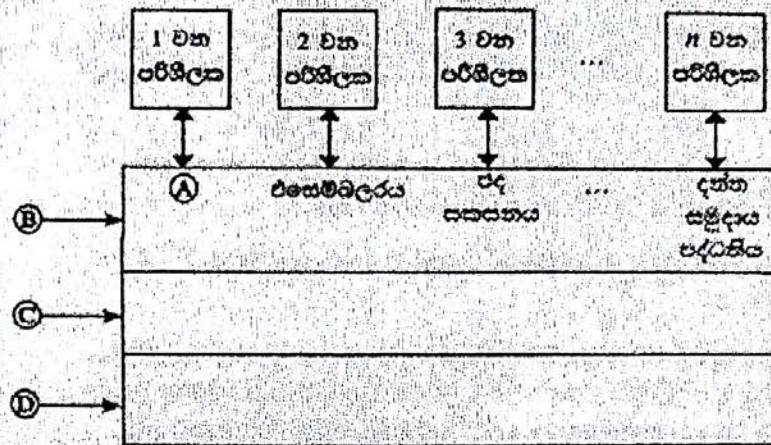
Total = 2.5 marks]

{Total for part 3 = 3.5 marks}

[TOTAL MARKS FOR Q3 10 MARKS]



4. (a) පරිගණක පද්ධතියක අඛණ්ඩ ස්තර (abstract layers) එකිනෙකට සම්බන්ධ වන ආකාරය පෙන්වන පහත දැක්වෙන රූපසටහන සලකන්න.



A, B, C හා D යන ලේඛනවලට අදාළ නිවැරදි පද පහත ලැයිස්තුවෙන් තෝරා ලියන්න.
 ලැයිස්තුව: {සම්පාදකය (compiler), පරිගණක දෘඩාංග, ජීවිංග, මෙහෙයුම් පද්ධතිය, පද්ධති/යෙදුම් ක්‍රමලේඛ}

- A
 B
 C
 D

- A -> Compiler
- B -> System/Application programs
- C -> Operating System
- D -> Computer Hardware

- A -> සම්පාදකය
- B -> පද්ධති/යෙදුම් ක්‍රමලේඛ
- C -> මෙහෙයුම් පද්ධතිය
- D -> පරිගණක දෘඩාංග

අනෙක හරි වැඩිදුර නම්
 Zero mark

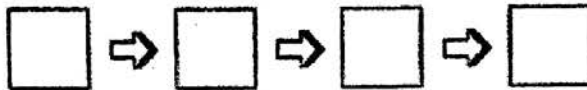
[1 correct (with others blank) 0.5 marks,
 2 correct (with others blank) 1 marks,
 3 correct (with others blank) 1.5 marks,
 All correct= 2 mark]

(b) පරිගණකයක් පණගැන්වූ විට (switched on) සිදුවන මෙහෙයුම් විස්තර කිරීමට පහත ප්‍රකාශවලින් හතරක් නිවැරදිව පෙළ ගස්වන්න.

(සැ.යු.: පහත ප්‍රකාශ අතුරෙන් දෙකක් අවශ්‍ය නොවේ.)

- A - මූලික ආදාන ප්‍රතිදාන පද්ධතිය (BIOS) විසින් මෙහෙයුම් පද්ධතියේ හොඳු ප්‍රධාන මතකයට පිටපත් කිරීමෙන් පසු මෙහෙයුම් පද්ධතිය ක්‍රියාත්මක වීම ඇරඹේ.
- B - මූලික ආදාන ප්‍රතිදාන පද්ධතිය CMOS විච්ඡේදන, මෙහෙයුම් පද්ධතිය හොඳා ගත හැකි ස්ථානයට ලබා ගනියි.
- C - සම්පාදකය (compiler) වැඩ ඇරඹියි.
- D - මතකයේ ඇති දෑ දැඩි ඩිස්කයට ප්‍රතිස්ථාපනය (swap) වේ.
- E - මෙහෙයුම් පද්ධතිය විසින් උපාංග ක්‍රියාකරවීමට අවශ්‍ය උපක්‍රම ධාවක (device drivers) ප්‍රවේශනය (load) කරනු ලබන අතර ඉන්පසු පරිශීලකයාට පරිගණකයට පිවිසිය හැකි පිරුම් අතුරු මුහුණත (login interface) ලබාදේ.
- F - හෝරා ස්පන්ද (clock ticks) කිහිපයකින් ක්‍රියාත්මක වූ මධ්‍ය කැසපුම් ඊකකය (CPU), මූලික ආදාන ප්‍රතිදාන පද්ධතියෙහි (BIOS) බල ගැන්වුම් ස්ථයං පරීක්ෂා (Power On Self Test) ඇතුළත් ආරම්භක ක්‍රමලේඛයෙහි උපදෙස් ක්‍රියාත්මක කරයි.

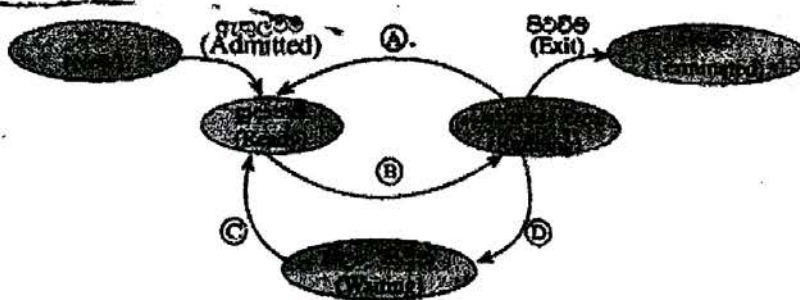
මෙහෙයුම් සිදුවන අනුපිළිවෙළ වන්නේ: (අදාළ අතුරුවලින් කොටු පුරවන්න.)



F -> B -> A -> E

[All correct= 2 marks
No partial marks]

(c) චක්‍රාකාර මෙහෙයුම් පද්ධතියක් (multi-tasking operating system) සහිත පරිගණකයක ධාවක වන්නාවූ ක්‍රියාවලියකට (process) සිදු විය හැකි අවස්ථා සංක්‍රාන්ති (state transitions) පහත රූ සටහනෙහි පෙන්වා ඇත.



Ⓐ, Ⓑ, Ⓒ සහ Ⓓ ලේඛවලින් දක්වන සංක්‍රාන්ති ක්‍රියාත්මක (transition triggers) දී ඇති ලැයිස්තුවෙන් තෝරා ලියන්න.

ලැයිස්තුව = {අතුරු බිදුම(interrupt), ආදාන/ප්‍රතිදාන හෝ සිද්ධි (event) නිම කිරීම, ආදාන/ප්‍රතිදාන සඳහා හෝ සිද්ධියක් සඳහා හෝ බලා සිටීම, නියමකාරකය මගින් තෝරා ගැනීම(scheduler dispatch)}

- Ⓐ
- Ⓑ
- Ⓒ
- Ⓓ

(ii) ඉහත ක්‍රියාවලියට අදාළව පහත සංක්‍රාන්ති ක්‍රියාත්මකයට තුඩු දිය හැකි එක් හේතුවක් දෙන්න.

අතුරු බිදුම:

{note: question number (i) is missing in the Sinhala paper}

- A – Interrupt
- B -> Scheduler dispatch
- C -> I/O or event completion
- D -> I/O or event wait

- A – අතුරු බිඳුම
- B -> නියමකාරනිය මගින් තෝරා යැවීම
- C -> ආදාන/ප්‍රතිදාන හෝ සිද්ධි නිම කිරීම
- D -> ආදාන/ප්‍රතිදාන සඳහා හෝ සිද්ධි සඳහා බලා සිටීම

[Each correct 0.5 x 4= 2 marks

Total = 2 marks]

(ii) ඉහත ක්‍රියාවලියට අදාළව පහත සංඝාතයි ක්‍රියාත්මකයට තුඩු දිය හැකි එක් හේතුවක් දෙන්න.

අතුරු බිඳුම:

OS decides to let another task run / process time out / a higher priority process comes

මෙහෙයුම් පද්ධතිය, වෙනත් කාර්යයකට බාධනය වීම සඳහා ඉඩ සැලසීමට තීරණය කරයි/ක්‍රියාවලියෙහි කාලය නිමවෙයි/ඉහළ ප්‍රමුඛතාවක් ඇති ක්‍රියාවලියක් ඉදිරිපත් වේ.

[1 mark]

{Total for 4 (c) = 3 marks}

(d) එක්තරා පරිගණකයක භෞතික මතකයේ (physical memory) මුළු ධාරිතාව 4GB වේ. එම මතකයේ රාමුවක (frame) විභාජනය 4KB වේ.

(i) භෞතික මතකයේ ඇති මුළු රාමු සංඛ්‍යාව ගණනය කර දක්වන්න.

$4 \times 1024 \times 1024 / 4$ frames (රාමු)

or

1048576 frames (රාමු)

or

$2^{10} \times 2^{10}$ frames (රාමු)

Or

2^{20} frames (රාමු)

['frames' word optional in answer,

(පිළිතුරෙහි 'රාමු' යන වචනය වෙකල්පිතයි)

1 mark]

(ii) මෙහෙයුම් පද්ධතිය, පරිගණකයේ ධාවනය වන එක් එක් ක්‍රියාවලියක් (process) සඳහා පිටු වගුව (page table) නම් වූ දත්ත ව්‍යුහයක් (data structure) භාවිත කරයි. එම දත්ත ව්‍යුහය භාවිත වන්නේ කුමක් සඳහා ද?

This data structure holds the mapping between process pages and memory frames

මෙම දත්ත ව්‍යුහය ,ක්‍රියාවලි රාමු සහ මතක රාමු අතර අනුරූපණය කිරීම රඳවා ගනී

[1 mark]

(iii) භෞතික මතකයේ ධාරිතාව සලකන විට, ඉහත පරිගණකයේ අනවරුපී මතක (virtual memory) තාක්ෂණය භාවිත කිරීමෙන් ලැබෙන වාසිය කුමක් ද?

The virtual memory technology makes it possible to use programs which are larger than the size of the physical memory (4GB)

එය)එනම් අනවරුපී මතක තාක්ෂණය (භෞතික මතකයෙහි ප්‍රමාණයට) 4GB වලට(වැඩි ක්‍රමලේඛ භාවිත කිරීමට ඉඩ සලසයි .

[1 mark]

{Total for 4 (d) = 3 marks}

[TOTAL MARKS FOR Q4 10 MARKS]

****Important****

Information for Chief Examiners of the panels: Please fill the following table and include any amendments made at the chief controllers meeting held on 9th September.

Check List

Question	Amende	Amendment Made
	d?	
	✓	
1. (a)	<input type="checkbox"/>	
(i)		
(1)		
(2)	<input type="checkbox"/>	
(ii)	<input type="checkbox"/>	
(iii)	<input type="checkbox"/>	
(b)	<input type="checkbox"/>	



- (c)
- 2 (a)
- (b)
 - (i)
 - (ii)
 - (iii)
 - (iv)
- 3 (a)
 - (i)
 - (ii)
 - (iii)
 - (iv)
 - (v)
- (b)
 - (i)
 - (ii)
- 4 (a)
- (b)
- (c)
 - (i)
 - (ii)
- (d)
 - (i)
 - (ii)
 - (iii)

Q & Company RegNo - වැඩේ ~~විද්‍යාලයේ~~
 " ; " හතරෙන් 05 අංකයකි.
 Keyword @ Case Sensitive බැවින් නො,
 @ වැඩේ හතරෙන් 3ක් හරහා වැඩේ @ නො.



ICT 20 (English) -2018

Marking Scheme

Part B

Special Notes:

- i. .../.../... indicate only one of the options included are considered as one answer
- ii. Underlined key words or synonyms are mandatory in a given answer
- iii. [...] {} indicates marking guidelines
- iv. If any amendments are made during 9th September 2018 meeting such changes need to be correctly written in the cages provided on page 54, 55 and verified with the panel/chief examiners by the individual examiner

B කොටස

විශේෂ සටහන්:

- i. .../.../... මගින්, ඇතුළත් කර ඇති විකල්ප (පිළිතුරු) අතරින් එකක් පමණක් එක් පිළිතුරක් ලෙස සලකා ගත යුතු බව දැක්වෙයි.
- ii. දෙන ලද පිළිතුරක, යටින් ඉරක් ඇඳ ඇති මූල පද හෝ පර්යාය පද (සමානාථ පද) අනිවාර්ය වේ.
- iii. [...] {} මගින්, පිළිතුරු හරි වැරදි බැලීමට උපදෙස් දැක්වෙයි.
- iv. 2018 සැප්තැම්බර් 09 වැනි දින රැස්වීමේදී කිසියම් සංශෝධනයක් සිදුකරනු ලබන්නේ නම් එම සංශෝධන 54, 55 පිටුවල දී ඇති අදාළ කොටු තුළ නිවැරදිව ලිවිය යුතු අතර, එක් එක් පරීක්ෂකවරයා විසින් එම සංශෝධන පරීක්ෂක මණ්ඩලය/ප්‍රධාන පරීක්ෂක මගින් තහවුරු කර ගත යුතුය.

සිංහල මාධ්‍ය ලකුණු දීමේ පටිපාටියෙහි කිසියම් හෝ කරුණක/උපදෙසක ව්‍යාකූලතාවයක් ඇති වුවහොත් ඉංග්‍රීසි මාධ්‍ය පිටතෙහි ඊට අනුරූප කරුණු/උපදෙස් පමණක් අනුගමනය කරන්න.



Answers & Marking Guide:

1. A, B සහ C නම් ආදාන සුනක් සහ Z නම් එක් ප්‍රතිදානයක් සහිත සංවිනායක පද්ධතියක් සඳහා තර්කන පරිපථයක් ස්ථාපනය කිරීමට අවශ්‍ය යැයි සිතන්න. එහි හැසිරීම් සහන පරිදි වේ.
 ආදානය C = 1 නම් Z ප්‍රතිදානය A හි අගය යනී.
 ආදානය C = 0 නම් Z ප්‍රතිදානය B හි අගය යනී.
 (a) Z ප්‍රතිදානය සඳහා සන්නයන වගුව ලබා ගන්න.

Truth table for the output Z Truth Table / ප්‍රතිදානය Z සඳහා සන්නයන වගුව

A	B	C	Z
0	0	0	0
0	0	1	0
0	1	0	1
0	1	1	0
1	0	0	0
1	0	1	1
1	1	0	1
1	1	1	1

← input output නව (input) ප්‍රතිදානය (output) No. of marks

[0.5 marks X 8

= 4 marks]

- (b) Z සඳහා ගුණිතයන්ගේ එකතුව (sum of products) හෝ එකතුවල ගුණිතය (product of sums) හෝ ආකාරය වූ විධාන ප්‍රකාශනයක් ලියන්න.

විකල්ප පිළිතුර 1

Option 1: Sum of products (SOP)

Using the 1-rows for Z, $Z = \bar{A}B\bar{C} + A\bar{B}C + AB\bar{C} + ABC$

"Z = " optional

විකල්ප පිළිතුර 2

Option 2: Product of sums (POS)

Using the 0-rows for Z, $Z = (A + B + C)(A + B + \bar{C})(A + \bar{B} + \bar{C})(\bar{A} + B + C)$

[2 marks]

[No partial marks]

(c) ඉහත (b) හි Z සඳහා එහි ලබා ගත් ප්ලීගන්තු ප්‍රකාශනය සුළු කරන්න.

Method 1: Using Karnaugh map

Option 1: Start from SOP	Option 2: Start from POS																				
<p>AB</p> <table border="1"> <tr> <td>C</td> <td>0</td> <td>1</td> <td>1</td> <td>0</td> </tr> <tr> <td></td> <td>0</td> <td>0</td> <td>1</td> <td>1</td> </tr> </table>	C	0	1	1	0		0	0	1	1	<p>AB</p> <table border="1"> <tr> <td>C</td> <td>0</td> <td>1</td> <td>1</td> <td>0</td> </tr> <tr> <td></td> <td>0</td> <td>0</td> <td>1</td> <td>1</td> </tr> </table>	C	0	1	1	0		0	0	1	1
C	0	1	1	0																	
	0	0	1	1																	
C	0	1	1	0																	
	0	0	1	1																	
Simplified SOP: $Z = AC + B\bar{C}$	Simplified POS: $Z = (A + C)(B + C)$																				
<p>Steps:</p> <ul style="list-style-type: none"> • Correct Karnaugh map → 1 mark • Correct marking of two groups (loops) → 1 mark each *2 → 2 marks <p style="text-align: right;">[3 marks]</p> <p>Expected final answer: $Z = AC + B\bar{C}$</p> <p style="text-align: right;">[2 marks]</p> <p style="text-align: right;">[total for (c): 5 marks]</p>	<p>Steps:</p> <ul style="list-style-type: none"> • Correct Karnaugh map → 1 mark • Correct marking of two groups (loops) → 1 mark each *2 → 2 marks <p style="text-align: right;">[3 marks]</p> <p>Expected final answer: $Z = (A + \bar{C})(B + C)$</p> <p style="text-align: right;">[2 marks]</p> <p style="text-align: right;">[total for (c): 5 marks]</p>																				

Method 2: Using Boolean algebra

Option 1: Start from SOP

$$Z = \bar{A}B\bar{C} + A\bar{B}C + AB\bar{C} + ABC$$

$$Z = ABC + A\bar{B}C + \bar{A}B\bar{C} + AB\bar{C}$$

$$Z = AC(B + \bar{B}) + B\bar{C}(\bar{A} + A) \leftarrow 1 \text{ mark each for factorizing } *2 = [2 \text{ marks}]$$

$$Z = AC(1) + B\bar{C}(1) \leftarrow 0.5 \text{ each for simplification } *2 = [1 \text{ mark}]$$

$$Z = AC + B\bar{C} \leftarrow \text{Expected final answer } [2 \text{ marks}]$$

Option 2: Start from POS

$$Z = (A + B + C)(A + B + \bar{C})(A + \bar{B} + \bar{C})(\bar{A} + B + C)$$

$$Z = (A + B + \bar{C})(A + \bar{B} + \bar{C})(A + B + C)(\bar{A} + B + C)$$

$$Z = (A + \bar{C})(B + \bar{B}) \bullet (B + C)(A + \bar{A}) \leftarrow 1 \text{ mark each for factorizing } *2 = [2 \text{ marks}]$$

$$Z = (A + \bar{C})(1) \bullet (B + C)(1) \leftarrow 0.5 \text{ each for simplification } *2 = [1 \text{ mark}]$$

$$Z = (A + \bar{C})(B + C) \leftarrow \text{Expected final answer } [2 \text{ marks}]$$

step should there with final marks → Full marks
No steps → No marks
** Write it some one final answer correct should given.*

[Steps 3 marks + final answer 2 marks,

= total 5 marks

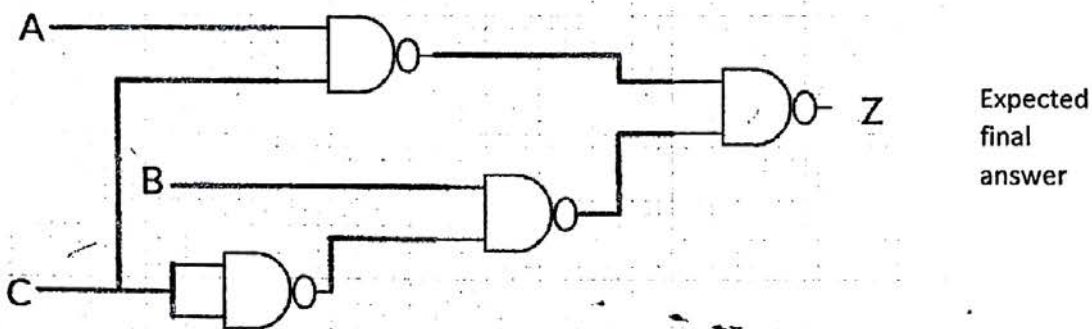
{Total for 1 (c): 5 marks}

(d) ඉහත (c) හි සුළු කරන ලද ප්‍රකාශනය භාවිත කර පද්ධතිය සඳහා ආදාන දෙකක් සහිත NAND ද්වාර පමණක් ඔබ ආදාන දෙකක් සහිත NOR ද්වාර පමණක් ඔබ භාවිත කර තර්කන පරිපථයක් නොඩනගන්න.

Logic circuit

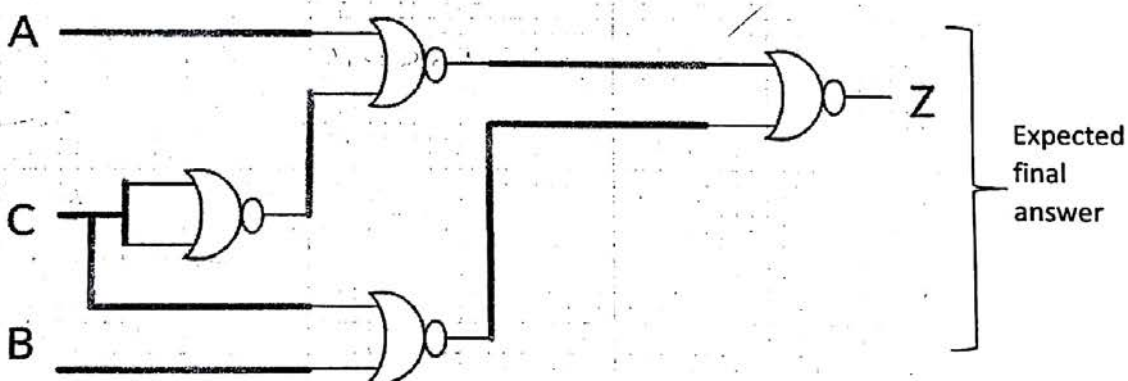
Option 1: Using 2-input logic NAND gates only

Can start from the simplified SOP expression, obtain AND-OR sequence, then convert that into NAND-NAND using De-Morgan's Law



Option 2: Using 2-input NOR gate only

Can start from the simplified POS expression, obtain OR-AND sequence, then convert that into NOR-NOR using De-Morgan's Law



[4 marks]

{0 marks if even a single disallowed gate is used

2 marks if the number of NAND /NOR gates is higher than above, due to not utilizing De Morgan's Law, but the circuit correctly implements the logic function for Z

-1 for each input or output not clearly and correctly labelled in the diagram (e.g., 3 out of 4 marks if the output is not labelled as Z; 0 out of 4 marks, if none of the 3 inputs and the output are labelled).)

[TOTAL FOR Q1 15 MARKS]

2. පහත දැක්වෙන සංවිධානයක් සලකන්න.

XYZ සමාගමට නිවැරදිව, ගිණුම්, අලෙවි, පරිපාලන, නඩත්තු සහ තොරතුරු තාක්ෂණ සේවා නමින් දෙපාර්තමේන්තු හයක් ඇත. එක් එක් දෙපාර්තමේන්තුවෙහි ඇති පරිගණක සංඛ්‍යාව පහත වගුවෙහි පෙන්වා ඇත.

දෙපාර්තමේන්තු අංකය	දෙපාර්තමේන්තුව	පරිගණක සංඛ්‍යාව
D01	නිවැරදි	25
D02	ගිණුම්	30
D03	අලෙවි	18
D04	පරිපාලන	30
D05	නඩත්තු	25
D06	තොරතුරු තාක්ෂණ සේවා	28

එක් එක් දෙපාර්තමේන්තුවට නමින්ගේම ජාතික ප්‍රදේශ ජාලයක් (LAN) අවශ්‍යව පවතී. ජාල පරිපාලක වෙත C පන්තියේ 192.248.154.0/24 IP ලිපිත කාණ්ඩයක් ලැබී ඇත. සෑම දෙපාර්තමේන්තුවකම අවශ්‍යතා සපුරාලමින් එක් එක් දෙපාර්තමේන්තුවට IP ලිපිත වෙන් කෙරෙන ආකාරයට, IP ලිපිත කාණ්ඩය උපජාලය (subnet) කිරීමට අවශ්‍යව ඇත.

(a) (i) IP ලිපිත කාණ්ඩයෙහි කොපමණ ලිපිත සංඛ්‍යාවක් තිබේ ද?

256 addresses

[1 mark]

(ii) IP ලිපිත කාණ්ඩයෙහි පළමු සහ අවසාන ලිපිත මොනවා ද?

First address: 192.248.154.0, Last address: 192.248.154.255

[1 mark x 2

= 2 marks]

(iii) අවශ්‍ය උපජාල නිර්මාණය කිරීම සඳහා සත්කාරක (host) බිටු කොපමණ අවශ්‍ය වේ ද?

Three (03) host bits are required

[1 mark]

(iv) උපජාලගත කිරීමෙන් පසු එක් එක් දෙපාර්තමේන්තුව සඳහා අදාළ ජාල ලිපිනය, උපජාල ආවරණය (subnet mask) සහ පවරන ලද IP ලිපිත පරාසය ලියා දක්වන්න.

ඛණ්ඩ: ඔබගේ පිළිතුරු ඉදිරිපත් කිරීම සඳහා පහත දැක්වෙන වගු ආකෘතිය භාවිත කරන්න.

දෙපාර්තමේන්තු අංකය	ජාල ලිපිනය	උපජාල ආවරණය	IP ලිපින පරාසය
D01			
D02			
D03			
D04			
D05			
D06			

Department No	Network Address	Subnet Mask	IP Address Range
D01	192.248.154.0	255.255.255.224	192.248.154.0 – 192.248.154.31 192.248.154.1 - 192.248.154.30
D02	192.248.154.32	255.255.255.224	192.248.154.32 – 192.248.154.63 192.248.154.33- 192.248.154.62
D03	192.248.154.64	255.255.255.224	192.248.154.64 – 192.248.154.95 192.248.154.65 - 192.248.154.94
D04	192.248.154.96	255.255.255.224	192.248.154.96 – 192.248.154.127 192.248.154.97 - 192.248.154.126
D05	192.248.154.128	255.255.255.224	192.248.154.128 – 192.248.154.159 192.248.154.129 - 192.248.154.158
D06	192.248.154.160	255.255.255.224	192.248.154.160 – 192.248.154.191 192.248.154.161 - 192.248.154.190

[Each correct row 0.5 marks

0.5 x 6

= 3 Marks]

Two other possible entries for any of the department:

Network Address	Subnet Mask	IP Address Range
192.248.154.192	255.255.255.224	192.248.154.192 - 192.248.154.223 193.248.154.193 - 192.248.154.222
192.248.154.224	255.255.255.224	192.248.154.224 – 192.248.154.255 192.248.154.225 - 192.248.154.254

Alternative Solutions:

- First divide (subnet) the IP address block into four equal subnets with 64 addresses of each
- Allocate first two subnets (blocks) to two separate departments
- Get third block and divide into two equal subnets of size 32 and allocate to two other departments
- Get the last block of 64 address and divide into two equal subnets of size 32 addresses and allocate to the two remaining department.
- පළමුව, IP ලිපින කාණ්ඩය එක එකක් ලිපින 64 වන සමාන උපජාල හතරකට බෙදන්න (උපජාලනය කරන්න)
- පළමු උපජාල (කාණ්ඩ) දෙක, දෙපාර්තමේන්තු දෙකකට පවරන්න.
- තුන්වන කාණ්ඩය ගෙන, එක එකක් ලිපින 32 වන සමාන උපජාල දෙකකට බෙදා වෙනත් දෙපාර්තමේන්තු දෙකට පවරන්න.
- ඉතිරි ලිපින 64 හි කාණ්ඩය, එක එකක් ලිපින 32 වන සමාන උපජාල දෙකකට බෙදා ඉතිරි දෙපාර්තමේන්තු දෙකට පවරන්න.

Department No	Network Address	Subnet Mask	IP Address Range
D01	192.248.154.0	255.255.255.192	192.248.154.0 – 192.248.154.63 192.248.154.1 - 192.248.154.62
D02	192.248.154.64	255.255.255.192	192.248.154.64 – 192.248.154.127 192.248.154.65- 192.248.154.126
D03	192.248.154.128	255.255.255.224	192.248.154.128 – 192.248.154.159 192.248.154.129 - 192.248.154.158
D04	192.248.154.160	255.255.255.224	192.248.154.160 – 192.248.154.191 192.248.154.161 - 192.248.154.190
D05	192.248.154.192	255.255.255.224	192.248.154.192 - 192.248.154.223 193.248.154.193 - 192.248.154.222
D06	192.248.154.224	255.255.255.224	192.248.154.224 – 192.248.154.255 192.248.154.225 - 192.248.154.254

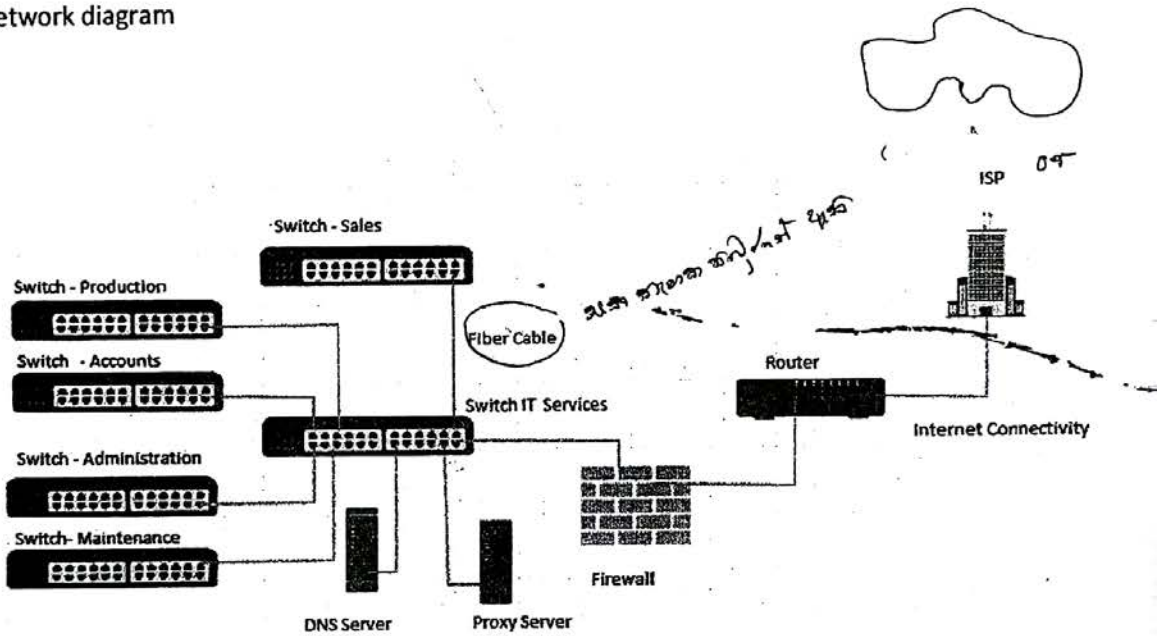
Two other possible entries for any of the department:



- (b) XYZ සමාගම නිෂ්පාදන, ගිණුම්, අලෙවි, පරිපාලන සහ නඩත්තු යන දෙපාර්තමේන්තු සහ තොරතුරු තාක්ෂණ සේවා දෙපාර්තමේන්තුවට සම්බන්ධ කර, එම දෙපාර්තමේන්තු තොරතුරු තාක්ෂණ දෙපාර්තමේන්තුව හරහා අන්තර්ජාලයට සම්බන්ධ කරයි. රැහැන් අතුරා, ස්විච් හයක්, මාර්ගකාරකයක් (router) සහ ගිනි පවුරක් (firewall) ස්ථාපනය කර ජාලය සම්පූර්ණ කර ඇත. දෙපාර්තමේන්තු හය වෙන වෙනම ගොඩනැගිලි හයක ස්ථාන ගත වී ඇත. ජාල පරිපාලක විසින් සියලු ම උපජාලවලට, නියෝජන සේවාදායකයක් (proxy server) හරහා අන්තර්ජාලයට ප්‍රවේශ වීමට ඉඩ සලසා ඇත. නියෝජන සේවාදායකය සහ DNS සේවාදායකය තොරතුරු තාක්ෂණ සේවා දෙපාර්තමේන්තුවෙහි ස්ථාපනය කර ඇත.

සියලු ම ස්ථාන සඳහා පුදුම උපක්‍රම හා අවශ්‍ය රැහැන් හඳුනා ගනිමින්, XYZ සමාගමෙහි පරිගණක ජාලයෙහි තර්කණ සැකැස්ම නිරූපණය කිරීමට, නම් කරන ලද ජාල රූපසටහන අඳින්න.

(b) Network diagram

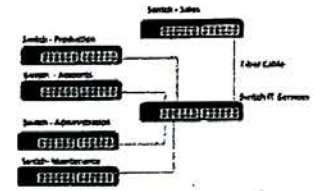


- Placing switches correctly and labeling.
- ස්විච් නිවැරදිව ස්ථානගත කිරීම සහ නම් කිරීම

[2 marks]

- Connecting switches with cables and naming correctly
- ස්විච් රැහැන් සමග නිවැරදිව සම්බන්ධ කිරීම සහ නම් කිරීම

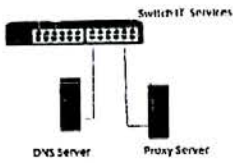
[0.5 + 0.5 marks]



- Placing DNS server and Proxy server in the correct place
- DNS සේවාදායකය සහ නියෝජන සේවාදායකය නිවැරදිව ස්ථානගත කිරීම

[0.5 + 0.5 marks]

[1 mark]



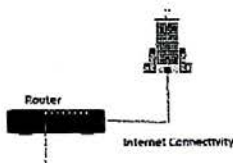
- Placing router and firewall in the correct place and connecting them
- මාර්ගකාරකය සහ ගිනි පවුර නිවැරදිව ස්ථානගත කිරීම සහ එක්කොක සම්බන්ධ (යා) කිරීම

- [1 mark]



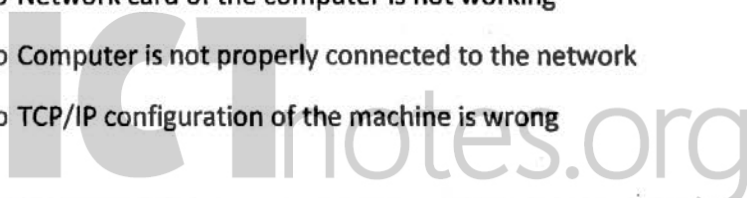
- Showing the connection to the Internet
- අන්තර්ජාල සම්බන්ධය පෙන්වීම

[1 mark]



(c) ජාලය සැකසීමෙන් අනතුරුව සමාගමෙහි ඕනෑම දෙපාර්තමේන්තුවක ඕනෑම සේවකයකුට කම දෙපාර්තමේන්තුවෙහි පරිගණකයක ඇති වෙබ් අතරික්වුවක් මගින් එකතාර් සමඟින් නිශ්චායකය <http://www.nic.lk> වන වෙබ් අඩවියට සාර්ථකව පිවිසිය හැකි විය. එසේ නමුදු එක්තරා දිනයකදී එක් සේවකයෙක් කම දෙපාර්තමේන්තුවෙහි පරිගණකයකින් එම වෙබ් අඩවියට ප්‍රවේශ වීමට නොහැකි බව දැන ගනියි. ඉහත ගැටළුවට තුඩු දිය හැකි හේතු තුනක් ලියා දක්වන්න.

- DNS is not working (down)
- Proxy Server down
- Change the proxy settings
- Internet Link is not working (down)
- Switch is broken / No power for the switch
- Router is not working
- Cable damage / Cables not properly connected
- Network card of the computer is not working
- Computer is not properly connected to the network
- TCP/IP configuration of the machine is wrong



o NIE Server down

- o DNS සේවාදායකය අක්‍රිය වීම
- o නියෝජන සේවාදායකය අක්‍රිය වීම
- o නියෝජන සිටුවම් වෙනස් කිරීම
- o අන්තර්ජාල සම්බන්ධය බිඳ වැටීම
- o ස්විචය අක්‍රිය වීම හෝ ස්විචයට විදුලි බලය විසන්ධි වීම
- o මාර්ගකාරකය අක්‍රිය වීම
- o රූහැන් කැඩී යාම හෝ නිසි ලෙස සම්බන්ධ නොවී තිබීම
- o ජාල කාඩ්පත ක්‍රියා නොකිරීම
- o පරිගණකය නිසි ලෙස ජාලයට සම්බන්ධව නොතිබීම
- o TCP/IP වින්‍යාසයෙහි දෝෂයකි
- o NIE සේවාදායකය බිඳ වැටී ඇත

1 correct – 1 mark

2 correct – 1.5 marks

3 correct – 2 marks

maximum 2 marks]

[TOTAL FOR Q2-15 MARKS]

3. (a) ශ්‍රී ලංකාවෙහි එක්තරා තරයක ඇති ව්‍යාපාරයක් ලී වෙස් මුහුණු, අතින් සාදනු ලබන සිහිවටන, බිතිස් සහ අන්යන්හු රෙදිපිළි වැනි අත්කම් භාණ්ඩ සංචාරකයන්ට අලෙවි කරයි. දැනට පාරිභෝගිකයින් විසින් සාප්පුවට පැමිණ, මුදල් ගෙවා භාණ්ඩ මිලදී ගනු ලැබේ. හිමිකරු තමන්ගේම වෙබ් ද්වාරයක් මගින් මාර්ගගතව තම භාණ්ඩ අලෙවි කිරීමට සැලසුම් කරයි.

(i) ව්‍යාපාර හිමිකරු විසින් ආරම්භ කිරීමට සැලසුම් කරනු ලබන e-ව්‍යාපාර ආකෘති (e-business model) වර්ගය සඳහන් කරන්න.

B2C/Business to Consumer/Business to Customer



[1 mark]

(ii) ආසන්නයේ පිහිටා ඇති එක්තරා සංචාරක හෝටලයක් එහි වෙබ් අඩවියෙහි මෙම සැලසුම් කරන ලද මාර්ගගත සාප්පුව ප්‍රසිද්ධ කිරීමට කැමැත්ත පළකරන්නේ යැයි උපකල්පනය කරන්න.

(1) මෙම සංසිද්ධියට අදාළව අත්කම් භාණ්ඩ ව්‍යාපාරය සහ හෝටලය අතර කුමන e-ව්‍යාපාර ආකෘතියක් ස්ථාපනය කළ හැකි වන්නේ ද?

B2B/Business to Business



[1 mark]



(2) හෝටලය සහ අන්කම් භාණ්ඩ ව්‍යාපාරයෙහි යෝජිත මාර්ගගත සාප්පුව යන එකිනෙක සඳහා e-ව්‍යාපාර ආදායම් ආකෘතියක් (revenue model) බැගින් කෙටියෙන් පැහැදිලි කරන්න.

Hotel: Hotel can earn revenue by displaying handy craft business's advertisement on their web site and channeling traffic to the handicraft business site. (Advertising/affiliate revenue model)

හෝටලය: තම වෙබ් අඩවියෙහි අන්කම් භාණ්ඩ ව්‍යාපාරයෙහි ප්‍රචාරක දැන්වීම ප්‍රදර්ශනය කර, අන්කම් භාණ්ඩ ව්‍යාපාරය වෙත හෝටලයෙහි වෙබ් අඩවියෙන් අන්තර්ජාලය ඔස්සේ සිදුවන ගමනාගමනය මත ආදායමක් ලැබිය හැකිය.
(ප්‍රචාරක ආදායම් ආකෘතිය)

Handicraft Business

[1 mark]

Handicraft Business: Proposed e-business portal can earn revenue by sale of products. (Sales revenue model)

අන්කම් භාණ්ඩ ව්‍යාපාරය: යෝජිත e-ව්‍යාපාර ද්වාරය මගින් සිදුකෙරෙන භාණ්ඩ අලෙවියෙන් ආදායම් ලබාගත හැකිය. (අලෙවි ආදායම් ආකෘතිය)

[1 mark]

(ii) පැලසුම් කරන ලද e-ව්‍යාපාරයෙහි මාර්ගගත ගෙවීම් සැකසීම සඳහා භාවිත කළ හැකි ක්‍රම දෙකක් සඳහන් කරන්න.

Payment gateways (using credit cards/debit cards/using electronic payment cards online) /third party electronic payment processors such as PayPal/online fund transfer/using online banking fund transfer, can be used to process electronic payments via e-business portal.

ගෙවීම් කිරීමේ ද්වාර (ණය පත්/හර පත්/ඉලෙක්ට්‍රොනික ගෙවීම් පත් භාවිතයෙන්)/ PayPal වැනි තෙවන පාර්ශ්වයක් මගින් ගෙවීම් කිරීම/මාර්ගගත මුදල් මාරු කිරීම/ e-ව්‍යාපාර ද්වාරය මගින් ඉලෙක්ට්‍රොනිකව ගෙවීම් කිරීමට අවස්ථාව සැකසීම

[2 marks]

(iv) සැලසුම් කරන ලද e-ව්‍යාපාර වෙබ් ද්වාරය සඳහා පාර්භෝගිකයන් ආකර්ෂණය කර ගැනීමට ඔබ විසින් යෝජනා කරනු ලබන e-අලෙවිකිරීමේ (e-marketing) එක් ක්‍රමයක් කෙටියෙන් පැහැදිලි කරන්න.

Social media campaign (via Facebook, Twitter etc.)/ email campaign (direct mailing)/SMS campaign/advertising in other websites can be used to attract users to the proposed site/search engine marketing



(Facebook, twitter වැනි) සමාජ මාධ්‍ය ජාල ඔස්සේ ප්‍රයත්නයවිදියුත් නාපාල (සෘජු නාපාල/කෙටි පණිවුඩ) මගින් ප්‍රයත්නය/වෙනත් වෙබ් අඩවි ඔස්සේ ප්‍රචාරය වැනි ක්‍රම මගින් යෝජිත වෙබ් අඩවියට පාරිභෝගිකයන් ආකර්ශනය කල හැකිය./සෙවුම් යන්ත්‍ර ඔස්සේ අලෙවි කිරීම

[Correct method 1 mark, explanation 1 mark

=2 marks]

- (v) සැලසුම් කරන ලද e-ව්‍යාපාර වෙබ් ද්වාරයේ පරිශීලක අත්දැකීම් (user experience) වැඩි දියුණු කිරීම සඳහා බුද්ධිමත් ඒජන්ත (intelligent agent) තාක්ෂණය භාවිත කළ හැකි ආකාරය විස්තර කරන්න.

Intelligent agent technology can be used to suggest customer preferred products by analyzing customer behavior on site/ intelligent search functions can be provided to help user search through the products. /for product recommendations on the site

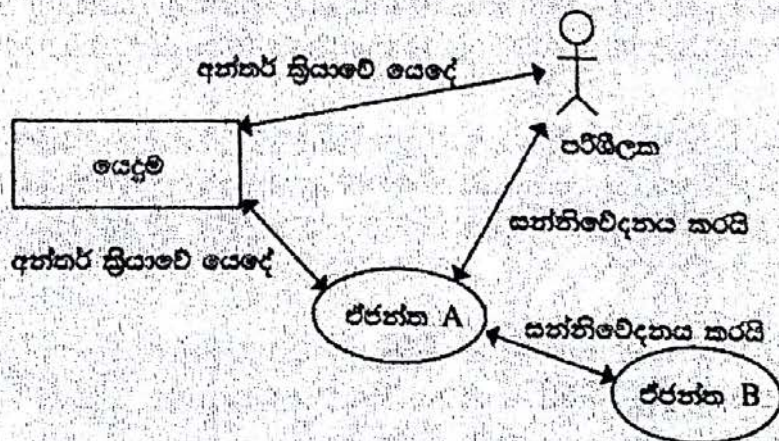
බුද්ධිමත් ඒජන්ත තාක්ෂණය භාවිතයෙන් වෙබ් අඩවිය තුළ පාරිභෝගිකයාගේ හැසිරීම් රටා විශ්ලේෂණය කර පාරිභෝගිකයා වඩා කාමනී නිෂ්පාදන යෝජනා කිරීම/බුද්ධිමත් සෙවීමේ ශ්‍රිත භාවිතයෙන් භාණ්ඩ ඔස්සේ පාරිභෝගිකයාට භාණ්ඩ සෙවීමේ පහසුව සැලසීම/වෙබ් අඩවිය තුළ භාණ්ඩ තීර්දේශ කිරීමෙන්



[Keyword 1 mark, proper explanation 2 mark]

[3 marks]

- (b) බහු-ඒජන්ත (multi-agent) පද්ධතියක සරල කරන ලද දසුනක් දැක්වෙන පහත රූපසටහන සලකන්න.



ඉහත රූපසටහන අධ්‍යයනය කර, පහත දැක්වෙන ප්‍රශ්නයට පිළිතුර සපයන්න.

"මෘදුකාංග ඒජන්තවරයකුට පරිශීලක අතුරු මුහුණතක් තිබීමට හෝ නොතිබීමට හෝ පිළිවන."

ඉහත ප්‍රකාශය හා ඔබ එකඟ වන්නේ ද? රූපසටහන ආශ්‍රයෙන් හේතුවක් දක්වන්න.

Yes,

ICTnotes.org

[1 mark]

as illustrated in the diagram an agent software has the ability to communicate with the user via the user interface. (agent A and User) as well as the other agents as well as the in a multi-agent environment (agent A and Agent B without user interaction (self-autonomous)).

මේ, රූප සටහනෙහි දක්වා ඇති පරිදි ඒජන්ත මෘදුකාංගයකට පරිශීලක අතර මනුෂ්‍යයන් මගින් පරිශීලක සමග සන්නිවේදනය කිරීමේ හැකියාව ඇති (ඒජන්ත A සහ පරිශීලක) අතර බහු ඒජන්ත පරිසරයකදී වෙනත් ඒජන්තවරු සමග සන්නිවේදනය කිරීමේ හැකියාව ද ඇත. (ඒජන්ත A සහ ඒජන්ත B). අග්‍රි ඔප්‍රැකර් 6 වරක්

[Agent user communication 1.5, agent-agent communication 1.5]

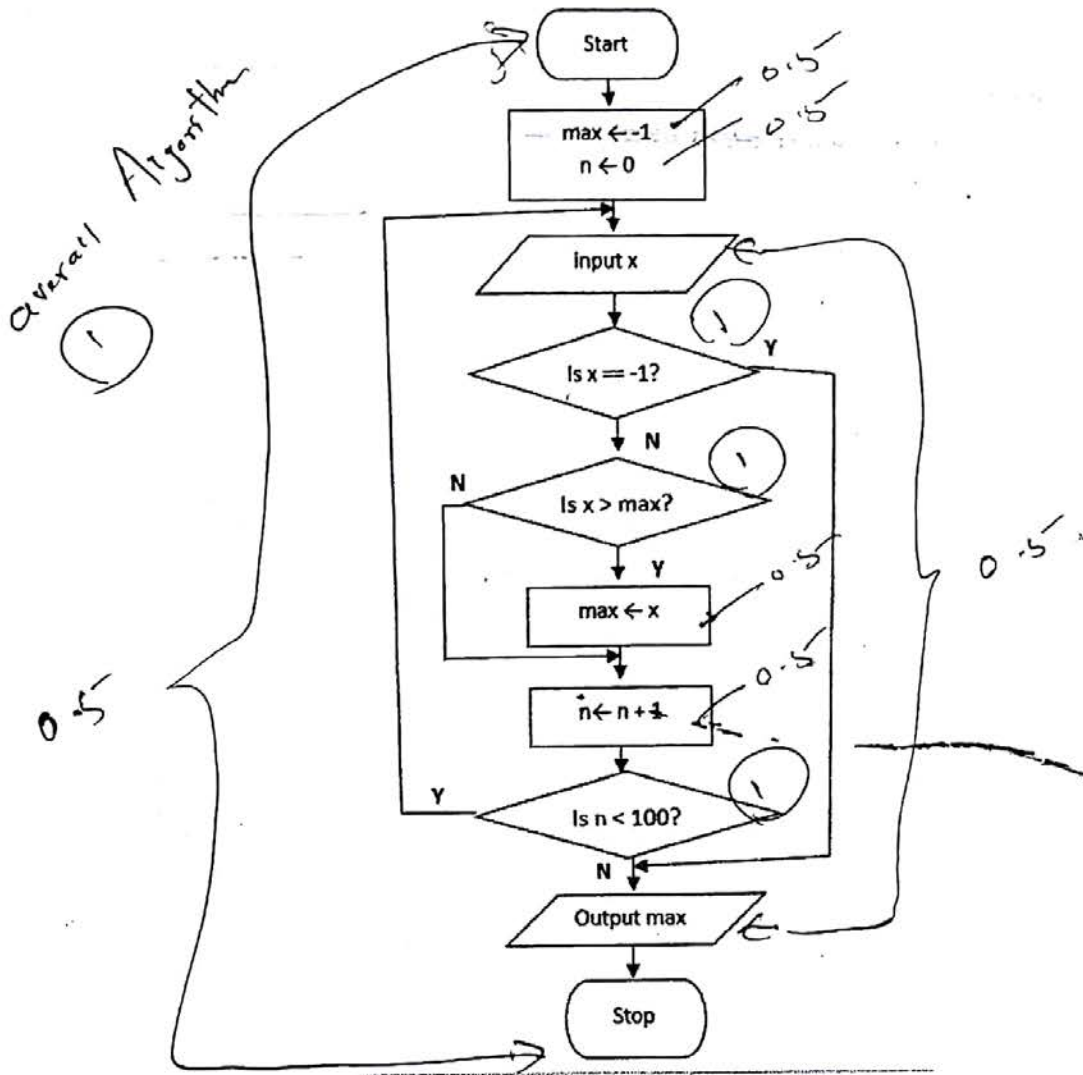
- * මව් කමෙ explain කමෙ නිහි... total 4 m = 3 marks
 - * මව් නිහි without expl - 1
 - * only expl - 3 marks
- {Total for 3(b) = 4 marks}
- [TOTAL FOR Q3 15 MARKS]

4. (a) ධන සංඛ්‍යා අනුක්‍රමයක් ඇති ආදානයක් සලකන්න. අනුක්‍රමයට උපරිම වශයෙන් සංඛ්‍යා 100ක් තිබිය හැකි ය. $n < 100$ ලෙස අනුක්‍රමයට සංඛ්‍යා n තිබේ නම්, $(n + 1)$ වන සංඛ්‍යාව -1 ලෙස සලකුණු කිරීමෙන් අනුක්‍රමයේ අවසානය දැක්වේ. උදාහරණයක් ලෙස පහත දැක්වෙන ආදාන අනුක්‍රමයට ධන සංඛ්‍යා 8ක් ඇති අතර 9 වන ආදානය වන -1 මගින් අවසානය සනිටුහන් කෙරේ.

23 12 54 76 89 22 44 65 -1

ඉහත විස්තර කරන ආකාරයේ ධන සංඛ්‍යා n ඇති අනුක්‍රමයක විශාලතම සංඛ්‍යාව ප්‍රතිදානය කිරීම සඳහා ඇල්ගොරිතමයක් ගැලීම් සටහනක් මගින් නිරූපණය කරන්න.





[Marks breakdown:

Correctness of overall algorithm: 1 mark

3 decision elements must exist: 3 marks for correct use of them, as follows (or equivalent):

- "is x == -1?" → 1 mark (including correct Y and N connections)
- "is x > max?" → 1 mark (including correct Y and N connections)
- "is n < 100?" → 1 mark (including correct looping / Y and N connections)

Correct initialization of variables: 1 mark

max ← -1 0.5
n ← 0 0.5

Correct update of max: 1 mark

Correct input and output: 0.5 marks

"start" and "stop": 0.5 marks

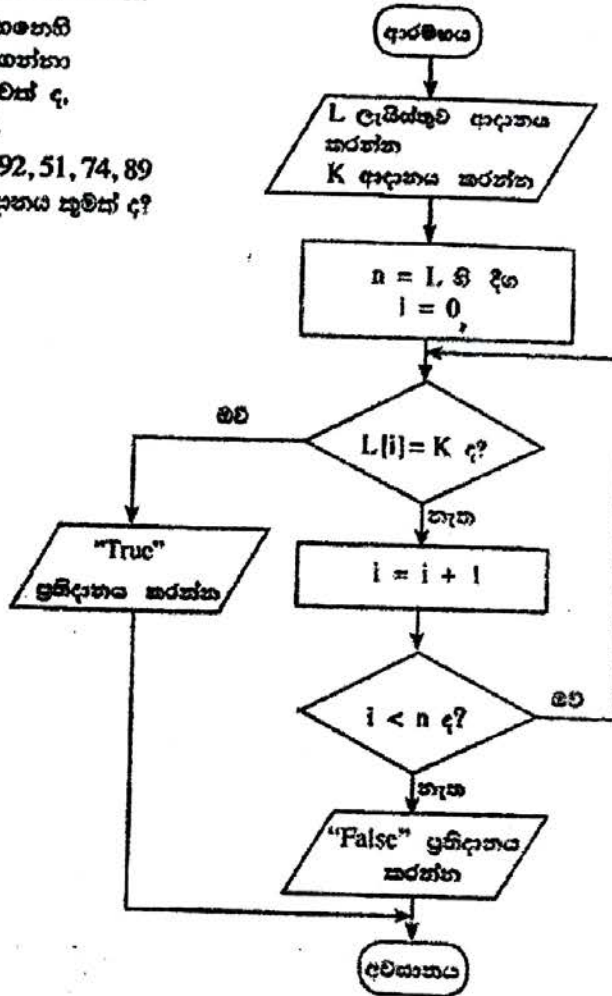
both update
n & max c. 0.5

Penalties applied after the above mark allocation:

if wrong flowchart symbols used, -1 for each wrong symbol

{Total for part (a) 7 marks}

- ද ඇති ගැලීම් සවිභක් සලකන්න. ගැලීම් සවිභක්හි දැක්වෙන ඇල්ගොරිතමය ආදානය දෙකක් ලබාගන්නා අතර පසුබු ආදානය වන L, සංඛ්‍යා ලැයිස්තුවක් ද, දෙවන ආදානය K, දෙන ලද සංඛ්‍යාවක් ද වේ.
- (i) පසුබු ආදානය (L) 23, 45, 32, 11, 67, 39, 92, 51, 74, 89 ද දෙවන ආදානය (K) 38 ද වූයේ නම්, ප්‍රතිදානය කුමක් ද?



False නැත

1

[1 mark]

- (ii) මෙම ඇල්ගොරිතමයෙහි අරමුණ කෙටියෙන් පැහැදිලි කරන්න.

Determine if K is in L / output True if K is in L, False otherwise

K, L හි තිබේ දැයි නිර්ණය කිරීම. K, L හි තිබේ නම් ප්‍රතිදානය සත්‍ය වන අතර එසේ නොවූව විට අසත්‍ය වේ.

[2 marks No partial marks]

(iii) ගැලීම් සටහනේ ඇති ඇල්ගොරිතමය ක්‍රියාත්මක කිරීම සඳහා පයිතන් භාෂාවෙන් ගොඩනගන්න.

Python program to implement the algorithm expressed by the flowchart.


```

# ListSearch.py(Python version 3.x program)
# input: L (a list of numbers), K (a number)
# output: "True" if K is in L, "False" otherwise
L = input("Enter the list of numbers:").split()
numList = [int(i) for i in L] # or similar way
K = int(input("Enter K, item to search:"))
n = len(numList)
i = 0
while i < n:
    if (numList[i] == K):
        print("True")
        break
    i = i+1
if (not (i < n)):
    print("False")

```

Overall (1)

loop (1)



[Loop must exist with correct looping and exiting/aborting of loop → 1 mark]

"if" must exist to compare each list element with K → 1 mark

input L 0.5
input K 0.5 } → Correct method to get input → 1 mark

Correct method to output → 1 mark

Overall correctness → 1 mark

Minor syntax errors will be ignored (not penalized)

Colon ":" and indentation are major (not minor) syntax

[Total = 5 marks]

{Total for 4(b) 8 marks}

[TOTAL FOR Q4 15 MARKS]

indentation නොමැති
: missing
මගේ
0.5

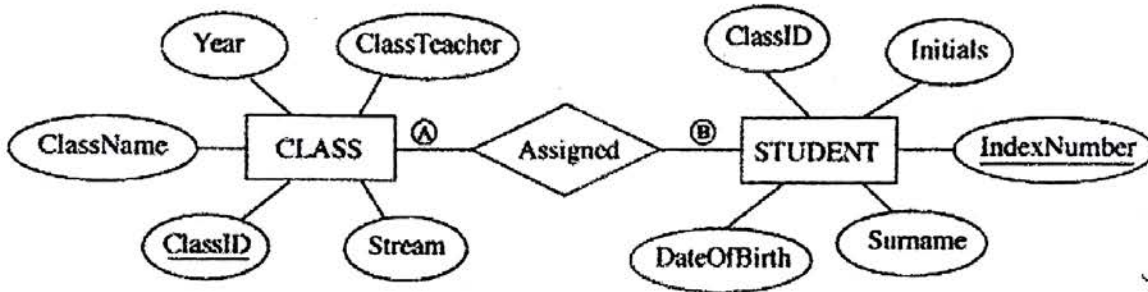
5. පහත දැක්වෙන CLASS සහ STUDENT වල දෙන, රූපයෙහි දී ඇති ER සටහන භාවිත කර නිර්මාණය කර ඇත.

CLASS වලුව

ClassID	ClassName	ClassTeacher	Stream	Year
1111	12 - A	A. B. Perera	Physical Science	2017
1112	12 - B	N. Mohamed	Bio Science	2017
1113	13 - A	E. Selvadurai	Arts	2017
1114	13 - B	L. de Silva	Commerce	2018

STUDENT වලුව

IndexNumber	ClassID	Initials	Surname	DateOfBirth
8991	1112	E.	Nazeer	1999.12.06
8993	1111	S.	Sivalingam	1999.02.06
8995	1112	W.	Fernando	1999.11.11
8997	1113	U. H.	de Silva	1999.08.06



(a) A සහ B ලෙස දක්වා ඇති CLASS සහ STUDENT යන භූතාර්ථ අතර සම්බන්ධතාවෙහි ගණනීයතාවය (cardinality) කුමක් ද? සටහන: A සහ B සඳහා පුදුසු ලේඛන පිළිවෙළින් ලියා දක්වන්න.

A=1, B=N(M) / one to many / 1:n/1:N

[A, B labels optional; order mandatory
[1 mark X 2
= 2 marks]

(b) ඉහත උදාහරණයෙහි ප්‍රාථමික යතුර/යතුරු සහ ආගන්තුක යතුර/යතුරු භාවිතයෙන් වලු දෙන අතර සම්බන්ධතාවයක් (relationship) ගොඩනැගෙන ආකාරය පැහැදිලි කරන්න.

Primary key ClassID of CLASS table is used as the foreign key in STUDENT table.

CLASS වගුවෙහි ප්‍රාථමික යතුර වන ClassID, STUDENT වගුවෙහි ආගන්තුක යතුර ලෙස භාවිත කෙරේ.

NO
[2 marks or partial marks]



(c) (i) STUDENT සහ CLASS වගු දෙවන ප්‍රමිත (2NF) ආකාරයෙන් පවතී ද? ශ්‍රේණි පිළිතුරු හේතුවක් වශයෙන් පැහැදිලි කරන්න.

Yes, ඔව්

[1 mark]

Both STUDENT and CLASS table are in 1NF as all fields are atomic and every non-prime attribute of each relation is fully functionally dependent on the primary key / primary key is not composite, hence all other attributes are fully functionally dependent on the primary key, and there are no partial dependencies / they are in 3NF as no transitive dependencies exists in addition to non composite primary key, hence in 2NF

STUDENT සහ CLASS වගු දෙකෙහි සියළුම ක්ෂේත්‍ර ඒකජ සහ එක් එක් සම්බන්ධයෙහි සෑම ප්‍රථමක නොවන අපදක්ෂණයක්ම ප්‍රාථමික යතුර මත පූර්ණ ලෙස කාර්යබද්ධව පරායත්ත වන බැවින්/ ප්‍රාථමික යතුර සංයුක්ත නොවන නිසා සහ අනෙකුත් සියළුම ක්ෂේත්‍ර ප්‍රාථමික යතුර මත පූර්ණ ලෙස කාර්යබද්ධව පරායත්ත වන අතර ආංශික පරායත්ත නොමැති බැවින්/ ප්‍රාථමික යතුර සංයුක්ත නොවීමට අමතර ලෙස සංක්‍රාන්තිකව පරායත්ත නොවන බැවින් මෙම වගු, 3වන ප්‍රමිතකරනයෙහිදී ඒකාකාරී වන ප්‍රමිතකරනයෙහිදී පවතී.

(Identifying the keywords 2 marks or Complete explanation 3 marks [4 marks])

(ii) ප්‍රමිතකරණයෙහි ප්‍රධාන වාසි සහ අවාසි පැහැදිලි කරන්න.

- Data integrity and consistency is maintained hence database is (Atomicity, Consistency, Isolation, Durability) ACID compliant
- no data duplication/ there is less chance of storing two or more different copies of the data/Smaller size database (By eliminating duplicate data, you will be able to reduce the overall size of the database
- Data integrity/no update, delete, insert anomalies/Data modification anomalies are reduced.
- Better performance faster access speed/ fewer indexes per table mean faster maintenance tasks such as index rebuilds/ Searching, sorting, and creating indexes is faster, since tables are narrower, and more rows fit on a data page
- Conceptually cleaner and easier to maintain and change database
- Updates run quickly due to no data being duplicated in multiple locations.
- Inserts run quickly since there is only a single insertion point for a piece of data and no duplication is required.
- Tables are usually smaller than the tables found in non-normalized databases. This usually allows the tables to fit into the buffer, thus offering faster performance.

- දත්ත විස්වාසවන්ත බව දත්ත සංඝන බව පැවතීම නිසා ACID සංකල්පයට (ඒකජ, සංඝන, වෙන්ව පැවතීම, කල්පැවැත්ම) එකඟ වේ.
- දත්තවල අනුපිටපත් නොපිහිටයි/දත්ත වල පිටපත් දෙකක් හෝ වැඩි ගණනක් තිබීමේ අවස්ථාව ඉතා අඩුය. / කුඩා ප්‍රමාණයේ දත්ත සමුදාය (අනුපිටපත් සහිත දත්ත තුරන්කරලීම නිසා දත්තපාදකයෙහි සමස්ත ප්‍රමාණය අඩු කර ගත හැකිවේ.)
- දත්ත විස්වාසවන්ත බව/ දත්ත යාවත්කාලීන කිරීමේ, මාකීමේ, ඇතුළුකිරීමේ ව්‍යාකූලතා නොමැත. දත්ත වෙනස් කිරීමේ ව්‍යාකූලතා නොමැත.
- වඩා හොඳ කාර්යසාධනය/ ප්‍රවේග වේගය වැඩි බව/ වගුවකට ඇති අඩු දර්ශක ඡේතුකොට ගෙන නඩත්තුකිරීමේ කාර්යයන් වඩා කාර්යක්ෂම වීම (උදා: දර්ශක නැවත ගොඩනැංවීම වැනි)/දත්ත සෙවීමේ, තේරීමේ සහ දැකීමේ කාර්යක්ෂමතාව, වගුවල පටු බව නිසා දත්ත පිටුවකට වැඩි ඡේළි ගණනක් ගැලපීමේ හැකියාව
- දත්ත සමුදාය සංකල්පිතව වඩා නිරවුල් සහ කඩත්තු කිරීමේ පහසුව
- බහුවිධ ස්ථානවල දත්ත අනුපිටපත් නොමැති නිසා දත්ත යාවත්කිරීම් වඩා කාර්යක්ෂම වීම
- දත්ත ඇතුළත් කිරීමේදී අනුපිටපත් නොකර එක් ස්ථානයකට පමණක් ඇතුළත් කිරීමට අවශ්‍ය බැවින් වඩා කාර්යක්ෂම වීම
- වගු, ප්‍රමතකරනය නොවූ වගු වලට වඩා සාමාන්‍යයෙන් කුඩා වේ. එනමින්, වගු අන්තරාවයට ගැලපීම විධිමත් නිසා ඉහළ කාර්යසාධනය

[3 marks]

{Total for 5(b) 7 marks}

1.5 for words
1.5 for proper explanation

(d) CLASS වගුවට පහත දැක්වෙන උපලැයිසානය ඇතුළත් කිරීම සඳහා SQL ප්‍රකාශයන් ලියන්න.

1115	13 - C	A.B. Jinasena	Technology	2018
------	--------	---------------	------------	------

INSERT INTO CLASS VALUES (1115, '13 - C', 'A.B. Jinasena', 'Technology', 2018);

or

INSERT INTO CLASS VALUES ('1115', '13 - C', 'A.B. Jinasena', 'Technology', '2018');

or

INSERT INTO CLASS (ClassID, ClassName, ClassTeacher, Stream, Year) VALUES ('1115', '13 - C', 'A.B. Jinasena', 'Technology', '2018');



Space IN TO NO MARKS

or

INSERT INTO CLASS (ClassID, ClassName, ClassTeacher, Stream, Year) VALUES (1115, '13 - C', 'A.B. Jinasena', 'Technology', 2018);

[Statement structure correct (Correct keywords + correct field names + correct values)

2 marks;

Overall completeness (Correct keywords + correct field names + correct values+ correct use of quotes (either ' or ")+ semicolon(Exact Answer))

2 mark]

no other forms of partial marks

=total 4 marks]

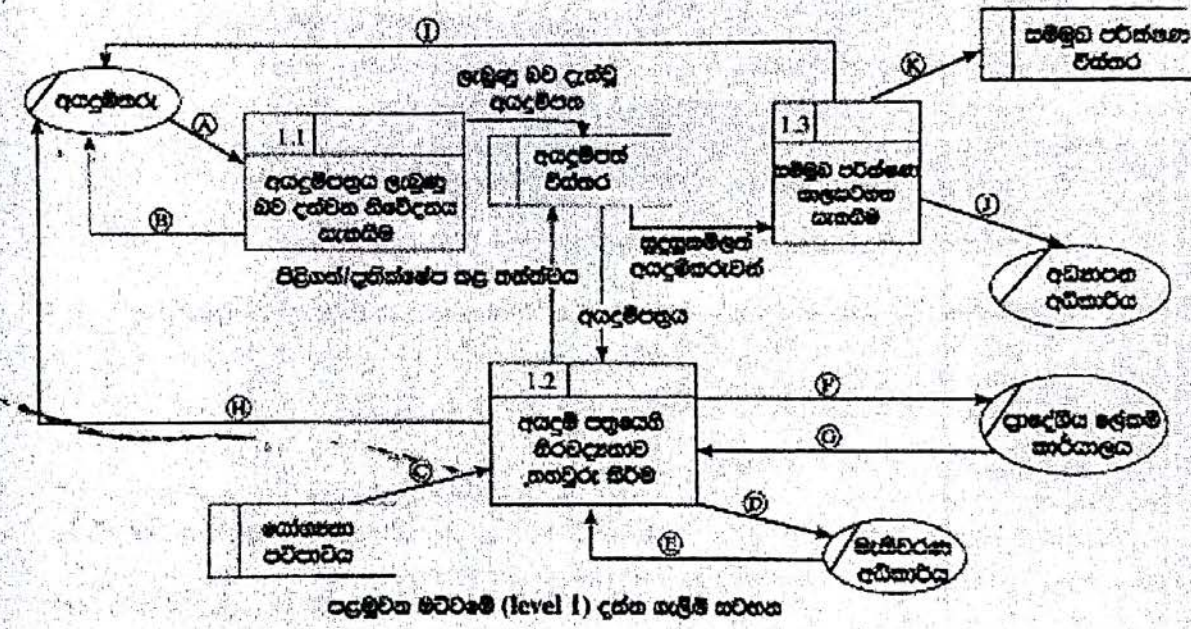
[TOTAL FOR Q3 15 MARKS

6. (a) එක්සත් ජනපද පාර්ලිමේන්තුවේ සුදුසු ඇතුළත් කිරීමේ ක්‍රියාදාමය, පහත දැක්වෙන විස්තරය සහ දක්නට ලැබෙන ආශ්‍රිත පැහැදිලි කෙරේ.

අදාළ විධිවිධාන අදාළ වන අයදුම්පත්‍රය යටතේ ලැබේ. පහත මගින් අයදුම්පත්‍රය ලැබුණු බව අදාළ පාර්ලිමේන්තුව දැනුම් දෙයි. අනතුරුව පාර්ලිමේන්තුව විධිවිධානවලට අදාළ කොන්දසුන්වල නිරවද්‍යතාව පහත දැක්වෙන පරිදි මගින් තහවුරු කෙරේ.

- අදාළ පාර්ලිමේන්තුවේ සුදුසුකම් : 'ව්‍යාපාරික පටිපාටිය' යන දත්ත ගබඩාවෙන් ලබාගත් ව්‍යාපාරික පටිපාටිය භාවිතයෙන්
- මැතිවරණ කොමසාරිස්වරයාගේ ලියාපදිංචිය : මැතිවරණ කොමසාරිස්වරයාගේ නිර්දේශයක් ලැබුණු බවට ඉල්ලා සිටීමෙන් (මැතිවරණ කොමසාරිස්වරයාගේ නිර්දේශයක් ලැබුණු බවට පාර්ලිමේන්තුව දැනුම් දෙයි.)
- වැරදිය : වැරදිය තහවුරු කරන ලද ප්‍රාදේශීය ලේකම් කාර්යාලයෙන් ඉල්ලා සිටීමෙන් (ප්‍රාදේශීය ලේකම් කාර්යාලය වැරදිය තහවුරු කර පාර්ලිමේන්තුව දැනුම් දෙයි.)

ව්‍යාපාරික පටිපාටිය නිරවද්‍යතාව තහවුරු කිරීමෙන් පසු අයදුම්පත්‍රය පිළිබඳව වටහා ගත යුතු කරුණක් වනුයේ එහි මගින් ප්‍රතික්ෂේප කළ බව හෝ අයදුම්කරුවා දක්වනු ලබන අතර, ඒ බවට සාක්ෂි සහ අයදුම්පත්‍රය 'අයදුම්කරු විස්තර' දත්ත ගබඩාවේ සුරැකිව ඇත. පාර්ලිමේන්තුව විධිවිධානවලට අදාළ පසු 'අයදුම්කරු විස්තර' දත්ත ගබඩාවෙන් ලබාගෙන, සුදුසුකම් ලත් අයදුම්කරුවන් සඳහා සම්මුඛ පරීක්ෂණවලට දින නියම කරනු ලැබේ. අයදුම්කරුවන් සම්මුඛ පරීක්ෂණය සඳහා සැලසුණු ලබන අතර, සම්මුඛ පරීක්ෂණයේ සාරාංශය අයදුම්කරුවන්ගේ ලැබුණු අධ්‍යයන අධ්‍යාපන අධ්‍යාපන වලට පවුල ලැබේ. සම්මුඛ පරීක්ෂණ කාලසටහන 'සම්මුඛ පරීක්ෂණ විස්තර' නම් දත්ත ගබඩාවේ සුරැකිව ඇත.



ඉහත සංකීර්ණ සඳහා පහත සලකුණු මට්ටමක දත්ත ගැලීම් සටහන, ඇතැම් දත්ත ගැලීම් A සිට K දක්වා ලේඛන සහිත ව ඉහත රූප සටහනෙහි දී ඇත.
 අදාළ දත්ත ගැලීම් හඳුනාගෙන, A සිට K දක්වා වන ලේඛන ඉදිරියෙන් ඒවා ලියා දක්වන්න.

- A- Application,
- B- Application Acknowledgement/Acknowledgement
- C-Eligibility Criteria
- D-Request/Application for Electoral List



E- Electoral List

F- Request/Application for Residential Status/Confirmation of Residence

G- Residential Status/Confirmation of Residence

H- Acceptance/Rejection Status

I- Interview Letter/Interview Date, Time (Venue)

K- Interview Schedule

J- Interview Schedule list of Applicants

A- අයදුම්පත්‍රය

B- අයදුම්පත්‍රය ලැබූ බව

C- සුදුසුකම් පවිපාවිය

D- ඡන්දදායක ලැයිස්තුව ඉල්ලීම *ලේඛන*

E- ඡන්දදායක ලැයිස්තුව

F- පදිංචිය නහවුරු කරන ලෙස ඉල්ලීම *ලේඛන*

G- පදිංචිය නහවුරු කිරීම *ලේඛන*

H- පිළිගත්/ප්‍රතික්ෂේප කළ බව/තත්ත්වය

I- සම්මුඛ පරීක්ෂණයට කැඳවීම/සම්මුඛ පරීක්ෂණයට කැඳවීමේ ලිපිය/සම්මුඛ පරීක්ෂණ දිනය/වේලාව/ස්ථානය *අවස්ථාව*

K- සම්මුඛ පරීක්ෂණ කාල සටහන

J- අයදුම්කරුවන්ගේ ලැයිස්තුව

[Each correct ½ mark = 5 ½

+ ½ for completeness (all 11 are correct)

= 6 marks]

11
කොමන්ස්

(b) (i) පද්ධති කාර්යක්ෂම වන වක්‍රයෙහි භාවිත වන කාර්යබද්ධ (functional) සහ කාර්යබද්ධ නොවන (non-functional) අවශ්‍යතා අතර ප්‍රධාන වෙනස කෙටියෙන් පැහැදිලි කරන්න.

Functional requirements : Any requirement which specifies what the system should do or provide for users/ they related to the technical functionality of the system./ function is described as a specification of behavior between outputs and inputs/ behavior (output) that a device or software is expected to exhibit in the case of a certain input./ desired operations of a software, or system

- කාර්යබද්ධ අවශ්‍යතා: පද්ධතිය කලයුතු වන්නේ කුමක්දැයි හෝ ලබා දෙන්නේ කුමක්දැයි දැක්වෙන අවශ්‍යතා කාර්යබද්ධ අවශ්‍යතා වේ. කාර්යබද්ධ අවශ්‍යතා යනු පද්ධතියෙහි තාක්ෂණික කාර්යබද්ධතා ලෙස ද දැක්විය හැකිය/ආදාන ප්‍රතිදාන අතර හැසිරීමේ පිරිවිතර/උපක්‍රමයක් හෝ මෘදුකාංගයක් විසින් දෙනලද ආදානයකට ලබා දියයුතු ප්‍රතිදානය ප්‍රදශීනය කිරීම/මෘදුකාංගයකින් හෝ පද්ධතියකින් බලාපොරොත්තු වන මෙහෙයුම
- Non-functional requirements : Any requirement which specifies how the system performs a certain function or system works /They describe how, how well or to what standard a function should be provided /nonfunctional requirements describe the general characteristics of a system. They are also known as quality attributes. (Include service hours, service availability, responsiveness, throughput and reliability.)/define system attributes such as security, reliability, performance, maintainability, scalability, and usability
- කාර්යබද්ධ නොවන අවශ්‍යතා: කිසියම් කාර්යයකදී පද්ධතියෙහි කාර්ය සාධනය කෙසේද? නැතහොත් පද්ධතිය ක්‍රියාකරන්නේ කෙසේද? යන්න/ එමගින් (එනම් කාර්යබද්ධ නොවන අවශ්‍යතා මගින්) කොතරම් හොඳින් නැතහොත් කුමන ප්‍රමිතියකට කාර්යයක් සිදුවිය යුතුද? යන්න සැලකේ. / කාර්යබද්ධ නොවන අවශ්‍යතා පද්ධතියක පොදු ලක්ෂණ විස්තර කරයි. කාර්යබද්ධ නොවන අවශ්‍යතා පද්ධතියෙහි තත්ත්ව උපලක්ෂණ ලෙසද සැලකේ (උදා: සේවා පැය ගණන, සේවා ලබාදෙන ස්වභාවය, කොපමණ දුර්වල හෝ අසීරුම ප්‍රමාණයක් පද්ධතිය තුළින් ගමන් කරන්නේද , ප්‍රතිචාර දැක්වීමේ ස්වභාවය, සහ විස්වාසවන්ත බව/ පද්ධත් උපලක්ෂණ, ආරක්ෂාකාරී බව, විශ්වාසවන්ත බව, කාර්යසාධනය, කඩිත්තුකිරීමේ හැකියාව, මැනීමේ හැකියාව, භාවිතයේ පහසුව

[2 *2 marks = 4 marks,

No partial marks less than 2 marks,

Total= 4 marks]

- (ii) භාෂාවලියක (catalogue) ඇති භාණ්ඩ අලෙවි කිරීමට, යෝජිත e-වාණිජ්‍ය (e-commerce) වෙබ් ද්වාරයක තිබිය යුතු ඇතැම් කාර්යබද්ධ සහ කාර්යබද්ධ නොවන අවශ්‍යතා ලැයිස්තුවක් පහත දැක්වේ.
 - A - භාණ්ඩවල විවිධ සංලක්ෂණ (characteristics) පදනම් අනුව භාණ්ඩ සෙවීම සඳහා පරිශීලකට අවස්ථාව ලබා දීම
 - B - පද්ධතිය ඕනෑම වෙබ් අතරික්සුවක ක්‍රියා කළ යුතු වීම
 - C - පද්ධතිය පහසුවෙන් භාවිත කිරීමට හැකි වීම
 - D - භාණ්ඩ පිළිබඳ විවරණ (comments) ඉදිරිපත් කිරීමට සහ වෙනත් පරිශීලකයන්ගේ විවරණ කියවීමට පරිශීලකට අවස්ථාව ලබා දීම
 - E - පද්ධතිය බිඳ වැටීමක් හමුවේ වුව ද එහි දත්ත සුරක්ෂිත විය යුතු වීම
 - F - තමන් කැමති භාණ්ඩ පිළිබඳ පැතුම් ලැයිස්තුවක් (wish list) සාදා එය නඩත්තු කර පවත්වාගෙන යාමට පරිශීලකට අවස්ථාව ලබා දීම
 - G - භාෂාවලියේ ඇති භාණ්ඩ බලා ගැනීමට පරිශීලකට අවස්ථාව ලබා දීම
 - H - පද්ධතිය දවසෙහි පැය 24 ම, සතිසෙහි දින 7 ම හා වසරෙහි දින 365 ම භාවිත කළ හැකි වීම
 - I - පරිශීලක නාම හා මුරපද හරහා පරිශීලකයන්ගේ තර්ථභාවය (authenticity) තහවුරු කිරීමට හැකි විය යුතු වීම
 - J - ලෝක ව්‍යාප්ත පරිශීලකයන් (උදා: ප්‍රංශ, ජපන්, ජර්මන් ආදී) සඳහා පද්ධතියේ අභිරුචි (customized) සංස්කරණ (versions) තිබිය යුතු වීම

Nonfunctional requirements
B,C,E,H,J 175

Handwritten scribbles

[Each correct 1 mark,

Each incorrect answer reduce 1 mark,
all written 0 marks

More incorrect answers than correct answers 0 marks

Total = 5 marks]

{Total for 6(b) 8 marks}

[TOTAL FOR Q6 15 MARKS]

****Important****

Information for Chief Examiners of the panels: Please fill the following table and include any amendments made at the chief controllers meeting held on 9th September.

Check List

Question	Amended?	Amendment Made
	d?	
	✓	
1. (a)	<input type="checkbox"/>	
(b)	<input type="checkbox"/>	
(c)	<input checked="" type="checkbox"/>	remove two 'f' sign add two 'o' sign for that.
(d)	<input type="checkbox"/>	
2 (a)	<input type="checkbox"/>	
(i)	<input type="checkbox"/>	
(ii)	<input type="checkbox"/>	
(iii)	<input type="checkbox"/>	
(iv)	<input type="checkbox"/>	
(b)	<input type="checkbox"/>	

ICTnotes.org

- (c)
- 3 (a)
- (i)
- (ii)
- (iii)
- (iv) ——— ?
- (v) ———

~~cut NO partial marks
add semicolon for 1FE001124*
remove wild cards from answer
Case sensitive problems
cut NO partial marks & work &
the page so instruction.
wildcards @etc etc.~~

- (b)
- 4 (a)
- (b)
- (i)
- (ii)
- (iii)

- 5. (a)
- (b)

- (c)
- (i)
- (ii)
- (d)

අවසාන පරාමාණ ගැලපී . ම නිසාය යන් වුණ
අන් අයුච්චන් ගැලපවල / අනවල්.

- 6. (a)
- (b)
- (i)
- (ii)

D - දේශීය F - දේශීය G - අන්තර්
I - අන්තර් H - අන්තර් වුණ අළු



ICT විෂයට අදාළ සියලුම ඉගෙනුම්
උපකාරක එකම තැනකින්

ICT notes.org + **VLE**

පාඩම්වල වලට
අදාළ සටහන්

පසුගිය විභාග
ප්‍රශ්න පත්‍ර

තෙරහුරු හා වාර
විභාග ප්‍රශ්න පත්‍ර

CLICK HERE TO DOWNLOAD

